



**Профиль олимпиады:  
«Компьютерное моделирование и графика»,  
тур по математике и инженерной графике**

**Класс участия: 11**

**Вариант задания: 2**

**Задача 1** (10 баллов). Имеются  $n$  различных красок, упорядоченных по спектру цветов. Стандартный флаг состоит из 3 горизонтальных полос (верхняя шире). Цвета граничащих полос должны быть разными и не соседними по спектру. При каком наименьшем  $n$  можно получить не менее 64000 разных флагов?

**Задача 2** (10 баллов). Выразить в градусах  $\arcsin \frac{\sqrt{4 + \sqrt{2} - \sqrt{6}}}{2\sqrt{2}}$ .

**Задача 3** (12 баллов). Найдите все значения параметр  $a$ , при которых система 
$$\begin{cases} \sqrt{(x+1)^2 + (y-1)^2} + \sqrt{(x-2)^2 + (y-a)^2} \leq \sqrt{10 - 2a + a^2}, \\ y = (x - a + 3)^2 + 1, \end{cases}$$
 имеет единственное решение.

Укажите это решение при каждом из найденных  $a$ .

**Задача 4** (10 баллов). См. лист 2.

**Задача 5** (8 баллов). Основанием наклонного конуса (см. условие задачи 4) является круг с центром в точке  $O$  и диаметром 90 мм. Пирамида  $SABCD$ , основанием которой является квадрат  $ABCD$  со стороной 50 мм, и конус имеют общую вершину  $S$ . Плоскость основания пирамиды параллельна плоскости основания конуса и выше ее на 10 мм, высота конуса равна 80 мм. Точки  $A', B', C', D', S'$  являются проекциями соответствующих вершин пирамиды на горизонтальную плоскость проекций, в которой лежит основание конуса ( $O' = O$ ). Точка  $S'$  лежит на окружности, ограничивающей основание конуса. Углы между прямой  $O'X$  пересечения горизонтальной и фронтальной плоскостей проекций и прямыми  $A'B'$  и  $O'S'$  равны  $60^\circ$  и  $40^\circ$  соответственно. Точка  $A'$  расположена ниже прямой  $O'X$  на расстоянии 10 мм от этой прямой и левее прямой  $O'Y$  ( $O'Y \perp O'X$ ) на расстоянии 20 мм (см. чертеж к условию задачи 4). Найдите расстояния от центра сечения конуса плоскостью основания пирамиды  $SABCD$  до сторон ее основания  $ABCD$ , а также длину ребра  $SA$ . (Указание: при расчетах считать  $\cos 40^\circ = 0,8$ .)

**Задача 6** (20 баллов). См. лист 3.

**Решение варианта №2 (Математика - 11 класс)**

**Задача 1** (10 баллов). Имеются  $n$  различных красок, упорядоченных по спектру цветов. Стандартный флаг состоит из 3 горизонтальных полос (верхняя шире). Цвета граничащих полос должны быть разными и не соседними по спектру. При каком наименьшем  $n$  можно получить не менее 64000 разных флагов?

**Решение:**

Если цвет средней полосы — крайний в спектре, то цвет как верхней, так и нижней полосы — любой из  $n-2$ . Если цвет средней полосы — не крайний в спектре, то цвет как верхней, так и нижней полосы — любой из  $n-3$ . Общее число вариантов  $2(n-2)^2 + (n-2)(n-3)^2 = 2m^2 + m(m-1)^2 = m^3 + m$ , где  $m = n-2$ . Поскольку  $m^3 < m^3 + m < (m+1)^3$ , минимальным достаточным будет  $m = 40$ .

**Ответ: 42.**

**Задача 2** (10 баллов). Выразить в градусах  $\arcsin \frac{\sqrt{4 + \sqrt{2} + \sqrt{6}}}{2\sqrt{2}}$ .

**Решение:**

Выражение под арксинусом имеет вид

$$S = \sqrt{\frac{4 + \sqrt{2} - \sqrt{6}}{8}} = \sqrt{\frac{1 + \frac{1 - \sqrt{3}}{2\sqrt{2}}}{2}} = \cos \frac{\alpha}{2}$$

где

$$\cos \alpha = \frac{1 - \sqrt{3}}{2\sqrt{2}} = \frac{1}{2} \cdot \frac{1}{\sqrt{2}} - \frac{\sqrt{3}}{2} \cdot \frac{1}{\sqrt{2}} = \cos(60^\circ + 45^\circ) = \cos 105^\circ.$$

Получаем  $S = \cos 52,5^\circ = \sin 37,5^\circ$ .

**Ответ: 37,5.**

**Задача 3** (12 баллов). Найдите все значения параметр  $a$ , при которых система

$$\begin{cases} \sqrt{(x+1)^2 + (y-1)^2} + \sqrt{(x-2)^2 + (y-a)^2} \leq \sqrt{10-2a+a^2}, \\ y = (x-a+3)^2 + 1, \end{cases} \quad \text{имеет единственное}$$

решение. Укажите это решение при каждом из найденных  $a$ .

**Решение:**

Пусть  $M(x; y)$ ,  $A(-1; 1)$ ,  $B(2; a)$ .

Тогда  $MA = \sqrt{(x+1)^2 + (y-1)^2}$ ,  $MB = \sqrt{(x-2)^2 + (y-a)^2}$ ,  $AB = \sqrt{10-2a+a^2}$ .

Первое неравенство системы означает, что  $MA + MB \leq AB$ . Это возможно лишь в том случае, если  $MA + MB = AB$ , и точка  $M$  лежит на отрезке  $AB$ , т.е.

$y = \frac{a-1}{3}(x+1) + 1, x \in [-1; 2]$ . Таким образом, приходим к системе

$$\begin{cases} y = \frac{a-1}{3}(x+1) + 1, x \in [-1; 2], \\ y = (x-a+3)^2 + 1. \end{cases}$$

Следовательно, требуется определить все значения

параметра  $a$ , при которых уравнение  $(x-a+3)^2 + 1 = \frac{a-1}{3}(x+1) + 1$  имеет

единственное решение на отрезке  $[-1; 2]$ . Обозначим  $b = \frac{a-1}{3}$ . Тогда имеем

$$(x-3b+2)^2 - b(x+1) = 0, x^2 - (7b-4)x + 9b^2 - 13b + 4 = 0, x \in [-1; 2].$$

Пусть  $f(x) = x^2 - (7b-4)x + 9b^2 - 13b + 4$ . Тогда уравнение

$x^2 - (7b-4)x + 9b^2 - 13b + 4 = 0$  может иметь единственное решение на отрезке  $[-1; 2]$  в трех случаях.

1)  $D = 13b^2 - 4b = 0, x = \frac{7b-4}{2} \in [-1; 2]$ . В этом случае  $b = \frac{4}{13}$ , и  $a = \frac{25}{13}, x = -\frac{12}{13}$ .

2)  $f(-1)f(2) < 0, f(-1) = 9b^2 - 6b + 1 = (3b-1)^2, f(2) = 9b^2 - 27b + 16,$

$(9b^2 - 27b + 16)(3b-1)^2 < 0 \Leftrightarrow 9(b-b_1)(b-b_2)(3b-1)^2 < 0$ , где

$b_1 = \frac{9+\sqrt{17}}{6}, b_2 = \frac{9-\sqrt{17}}{6}$ . В этом случае  $b \in \left(\frac{9-\sqrt{17}}{6}; \frac{9+\sqrt{17}}{6}\right)$ , и

$a \in \left(\frac{11-\sqrt{17}}{2}; \frac{11+\sqrt{17}}{2}\right), x = \frac{7a-19-\sqrt{(a-1)(13a-25)}}{6}$ .

3)  $f(-1) = 0, f(1) = (3b-1)^2 = 0, b = \frac{1}{3}, x_0 = \frac{7b-4}{2} = -\frac{5}{6}$ . В этом случае на

отрезке  $[-1; 2]$  уравнение  $f(x) = 0$  имеет два корня  $x_1 = -1, x_2 = -\frac{2}{3}$ .

$f(2) = 0, f(2) = 9b^2 - 27b + 16 = 0,$

$b_1 = \frac{9+\sqrt{17}}{6}, x_0 = \frac{7b-4}{2} = \frac{39+7\sqrt{17}}{12} > 2 \Rightarrow$  на  $[-1; 2]$  единственное решение  $x = 2;$

$b_2 = \frac{9-\sqrt{17}}{6}, x_0 = \frac{7b-4}{2} = \frac{39-7\sqrt{17}}{12} < 2, 2 - \frac{39-7\sqrt{17}}{12} = \frac{7\sqrt{17}-15}{12} < \frac{3}{2} \Rightarrow$

на  $[-1; 2]$  два решения  $x_1 = \frac{27-7\sqrt{17}}{6}, x_2 = 2.$

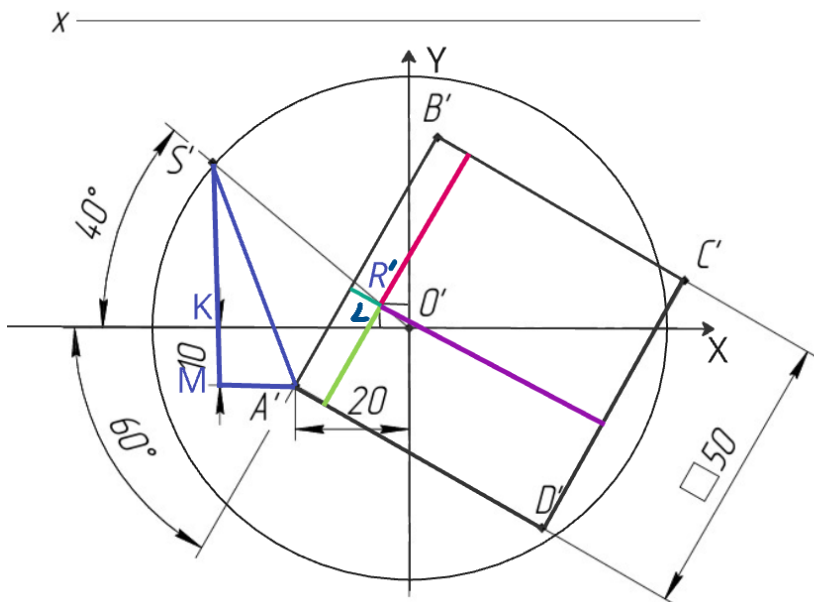
В этом случае подходит  $a = \frac{11+\sqrt{17}}{2}, x = 2.$

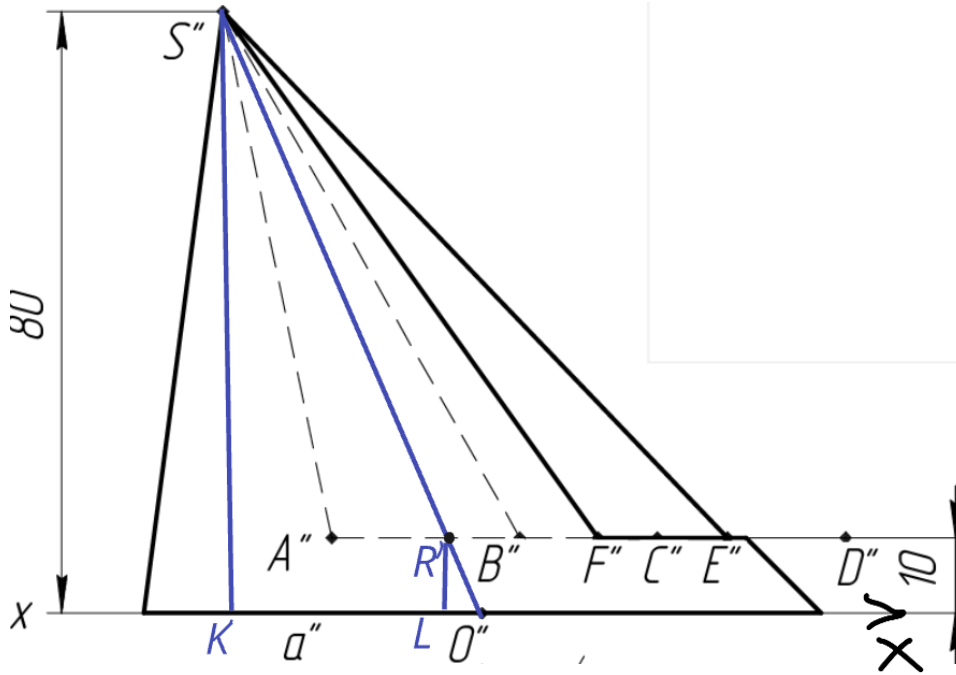
**Ответ:**  $a \in \left\{ \frac{25}{13} \right\} \cup \left( \frac{11 - \sqrt{17}}{2}; \frac{11 + \sqrt{17}}{2} \right]$ , при  $a = \frac{25}{13}$ ,  $x = -\frac{12}{13}$ ,

при  $a \in \left( \frac{11 - \sqrt{17}}{2}; \frac{11 + \sqrt{17}}{2} \right]$ ,  $x = \frac{7a - 19 - \sqrt{(a - 1)(13a - 25)}}{6}$ .

**Задача 4** (8 баллов). Основанием наклонного конуса (см. условие задачи 5) является круг с центром в точке  $O$  и диаметром 90 мм. Пирамида  $SABCD$ , основанием которой является квадрат  $ABCD$  со стороной 50 мм, и конус имеют общую вершину  $S$ . Плоскость основания пирамиды параллельна плоскости основания конуса и выше ее на 10 мм, высота конуса равна 80 мм. Точки  $A', B', C', D', S'$  являются проекциями соответствующих вершин пирамиды на горизонтальную плоскость проекций, в которой лежит основание конуса ( $O' = O$ ). Точка  $S'$  лежит на окружности, ограничивающей основание конуса. Углы между прямой  $O'X$  пересечения горизонтальной и фронтальной плоскостей проекций и прямыми  $A'B'$  и  $O'S'$  равны  $60^\circ$  и  $40^\circ$  соответственно. Точка  $A'$  расположена ниже прямой  $O'X$  на расстоянии 10 мм от этой прямой и левее прямой  $O'Y$  ( $O'Y \perp O'X$ ) на расстоянии 20 мм (см. чертеж к условию задачи 5). Найдите расстояния от центра сечения конуса плоскостью основания пирамиды  $SABCD$  до сторон ее основания  $ABCD$ , а также длину ребра  $SA$ . (Указание: при расчетах считать  $\cos 40^\circ = 0,8$ .)

**Решение:**





Пусть  $R$  - центр сечения конуса плоскостью основания пирамиды  $SABCD$ . В фронтальной плоскости проекций точка  $K$  – проекция на ось  $O''X = O'X$  точки  $S''$  (фронтальной проекции вершины  $S$ ), точка  $L$  – проекция на ось  $O''X = O'X$  точки  $R''$  (фронтальной проекции  $R$ ),  $O'' = O'$ . Треугольники  $S''KO''$  и  $R''LO''$  подобны, и  $LO'' = KO''/8$ . Следовательно, в горизонтальной плоскости проекций  $LO' = KO'/8$ .

В горизонтальной плоскости проекций рассмотрим прямоугольный треугольник  $S'KO'$ ,  $S'O' = 45$ ,  $\cos \angle S'O'K = 0,8$ ,  $\sin \angle S'O'K = 0,6$ ,  $KO' = 36$ ,  $S'K = 27$ .

Тогда  $LO' = 9/2$ ,  $R'L = 27/8$ .

Нужно найти расстояние от  $R'$  до сторон квадрата  $A'B'C'D'$  в горизонтальной плоскости проекций. В системе координат  $O'XY$  координаты точки  $A'(-20; -10)$ , прямая  $A'B'$  составляет с положительным направлением оси  $O'X$  угол  $60^\circ$ , и уравнение прямой  $A'B'$  имеет вид  $y = \sqrt{3}(x + 20) - 10$ . Вычислим расстояние от точки  $R'(-9/2; 27/8)$  до прямой  $A'B'$  :

$$d_{AB} = \frac{|\sqrt{3}(20 - 9/2) - 27/8 - 10|}{2} = \frac{124\sqrt{3} - 107}{16} \approx 6,7.$$

Тогда расстояние от точки  $R'(-9/2; 27/8)$  до прямой  $C'D'$  :

$$d_{CD} = 50 - \frac{124\sqrt{3} - 107}{16} = \frac{907 - 124\sqrt{3}}{16} \approx 43,3.$$

Прямая  $A'D'$  перпендикулярна прямой  $A'B'$ , ее уравнение  $\sqrt{3}y + (x + 20) + 10\sqrt{3} = 0$ . Вычислим расстояние от точки  $R'(-9/2; 27/8)$  до прямой  $A'D'$  :

$$d_{AD} = \frac{|27\sqrt{3}/8 + 20 - 9/2 + 10\sqrt{3}|}{2} = \frac{107\sqrt{3} + 124}{16} \approx 19,3.$$

Тогда расстояние от точки  $R'(-9/2; 27/8)$  до прямой  $B'C'$  :

$$d_{BC} = 50 - \frac{107\sqrt{3} + 124}{16} = \frac{676 - 107\sqrt{3}}{16} \approx 30,7.$$

Вычислим длину ребра  $SA$ . Высота  $H$  пирамиды  $SABCD$  равна 70. Тогда  $SA^2 = S'A'^2 + H^2$ . В прямоугольном треугольнике  $S'MA'$  вычислим гипотенузу  $S'A'$  :

$$S'M = S'K + KM = 27 + 10 = 37, \quad MA' = KO' - 20 = 36 - 20 = 16,$$

$$SA^2 = S'M^2 + MA'^2 + H^2 = 37^2 + 16^2 + 70^2 = 6525 = 225 \cdot 29.$$

$$SA = 15\sqrt{29} \approx 80,8.$$

**Ответ:**  $d_{AB} = \frac{124\sqrt{3} - 107}{16} \approx 6,7 \text{ мм}, \quad d_{CD} = \frac{907 - 124\sqrt{3}}{16} \approx 43,3 \text{ мм},$

$$d_{AD} = \frac{107\sqrt{3} + 124}{16} \approx 19,3 \text{ мм}, \quad d_{BC} = \frac{676 - 107\sqrt{3}}{16} \approx 30,7 \text{ мм}, \quad SA = 15\sqrt{29} \approx 80,8 \text{ мм}.$$



## Критерии оценивания олимпиадной работы

**Профиль:** Компьютерное моделирование и графика

**Предмет:** Математика и инженерная графика (задания по математике)

**Класс:** 11

### Задание 1

максимальная оценка: **10 баллов**

Критерий (учитывается балл, полученный за выполненный критерий)	Балл
Решение не соответствует ни одному из критериев, перечисленных выше.	0
Верно и обоснованно рассмотрен один из частных случаев. Итоговый ответ неверный, или итоговый ответ верный, но доказательство его истинности представлено частично.	3
Рассуждения верные, но не все утверждения строго обоснованы, представлены верные формулы без необходимых объяснений.	5
Все рассуждения верные, сформулированные утверждения строго обоснованы. Допущена одна арифметическая ошибка.	8
Задача решена полностью, получен верный обоснованный ответ.	10

### Задание 2

максимальная оценка: **10 баллов**

Критерий (учитывается балл, полученный за выполненный критерий)	Балл
Решение не соответствует ни одному из критериев, перечисленных выше	0
Верно использованы необходимые тригонометрические формулы, приводящие к табличным значениям углов.	3
Проведены верные преобразования, в результате которых получено уравнение, связывающее искомый угол и угол с известной градусной мерой.	5
Все рассуждения верные, представленные формулы строго обоснованы. Допущена одна арифметическая ошибка.	8
Задача решена полностью, получен верный обоснованный ответ.	10

### Задание 3

максимальная оценка: **12 баллов**

Критерий (учитывается балл, полученный за выполненный критерий)	Балл
Решение не соответствует ни одному из критериев, перечисленных выше	0
Задача сведена к исследованию взаимного расположения отрезка и параболы.	3
С помощью верного рассуждения получен промежуток (промежутки), содержащий верный ответ, либо содержащийся в верном промежутке (промежутках). При этом концы промежутка (промежутков) частично совпадают с концами верных промежутков.	6
Верно найдены нужные значения параметра. Допущены ошибки при выписывании решений системы или решения системы отсутствуют. Или потеряно одно из значений параметра, при этом верно выписаны решения для остальных значений параметра.	9
Задача решена полностью, получен верный обоснованный ответ.	12



Федеральное государственное бюджетное  
образовательное учреждение высшего образования  
«Московский государственный технический университет  
имени Н.Э. Баумана (национальный исследовательский университет)»

ОЛИМПИАДА ШКОЛЬНИКОВ «ШАГ В БУДУЩЕЕ»

### Задание 5

максимальная оценка: **8 баллов**

Критерий (учитывается балл, полученный за выполненный критерий)	Балл
Решение не соответствует ни одному из критериев, перечисленных выше	0
Обоснованно получен верный ответ при вычислении длины ребра $SA$ или одного из расстояний от центра сечения конуса плоскостью $ABC$ до сторон квадрата.	2
Обоснованно получен верный ответ при вычислении длины ребра $SA$ и одного из расстояний от центра сечения конуса плоскостью $ABC$ до сторон квадрата. Или верно и точно вычислены все расстояния от центра сечения конуса плоскостью $ABC$ до сторон квадрата.	4
Все рассуждения верные, представленные формулы строго обоснованы, все нужные ответы получены точно. Допущена одна арифметическая ошибка.	6
Задача решена полностью, получены все верные обоснованные ответы. Все ответы даны точно, а не приближенно.	8





Профиль: Компьютерное моделирование и графика;  
тур по математике и инженерной графике.

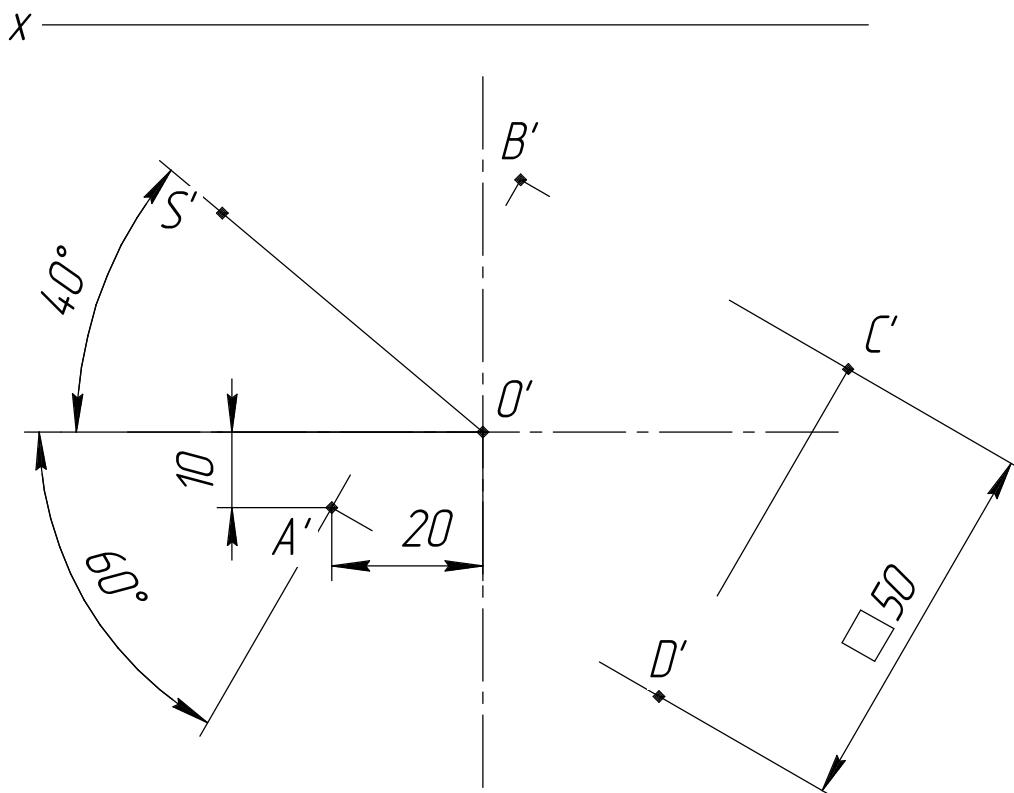
Вариант: 2

класс: 10–11

**Задача 4** (10 баллов). Даны горизонтальные проекции центра окружности основания наклонного конуса  $O'$  и вершин пирамиды  $A'B'C'D'S'$ . Вершины  $S'$  фигур совпадают и расположены выше оснований. Основание конуса принадлежит горизонтальной плоскости проекции его диаметр 90 мм. Высота конуса 80 мм. Плоскость основания пирамиды параллельна плоскости основания конуса и выше ее на 10 мм.

Требуется:

- 1) построить фронтальную и горизонтальную проекции конуса с учетом выреза в форме пирамиды  $ABCDS$  с соблюдением проекционной связи;
- 2) построить и обозначить проекции вершин пирамиды и границ участков линии выреза в конусе;
- 3) обозначить видимость линий конуса с вырезом;
- 4) оформить все изображения в соответствии с требованиями ЕСКД.





Профиль: Компьютерное моделирование и графика;  
тур по математике и инженерной графике.

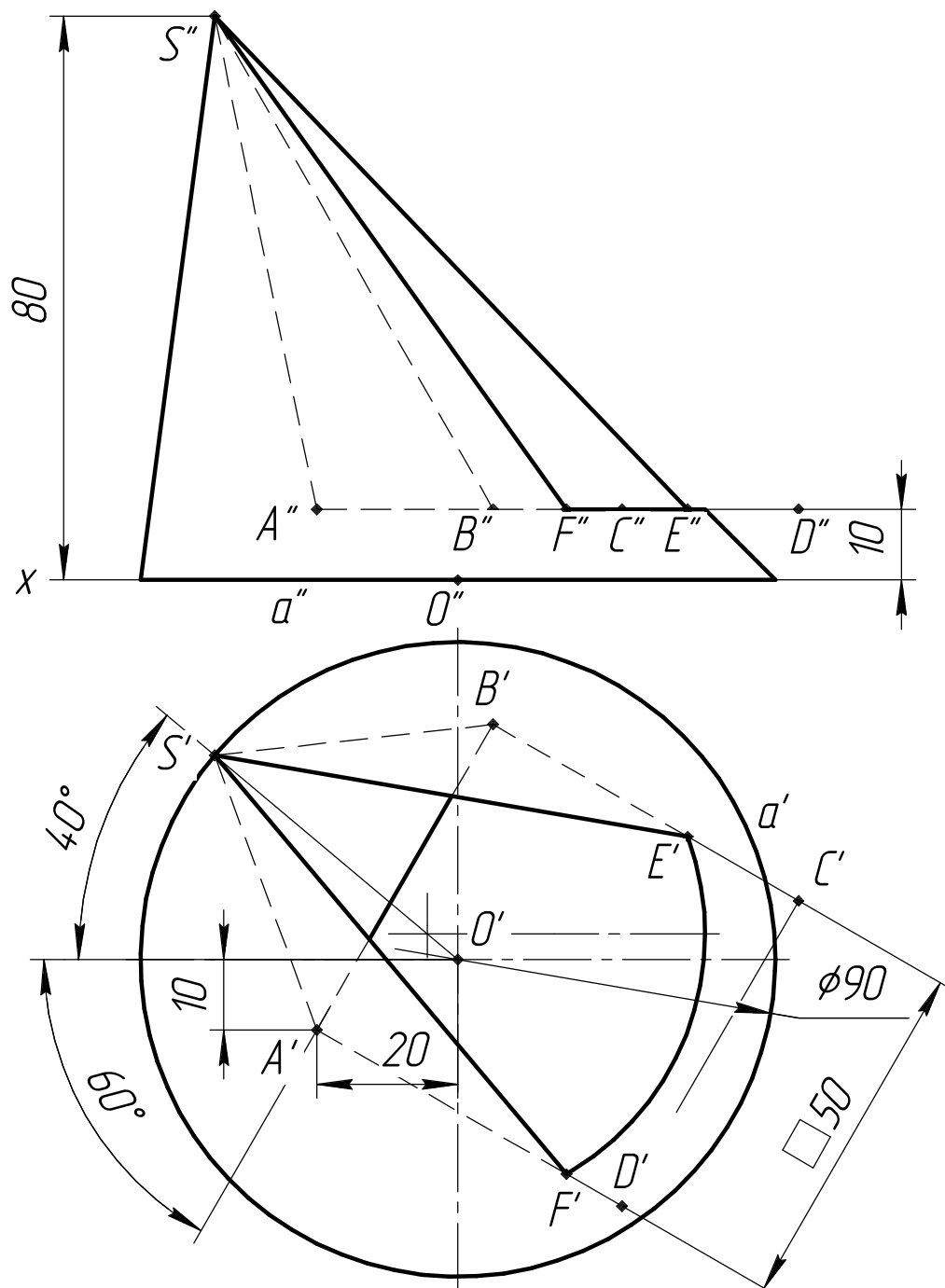
Вариант: 2

класс: 10–11

**Задача 4а (10 баллов).** Даны горизонтальные проекции центра окружности основания наклонного конуса  $O'$  и вершин пирамиды  $A'B'C'D'S'$ . Вершины  $S$  фигур совпадают и расположены выше оснований. Основание конуса принадлежит горизонтальной плоскости проекции его диаметр 90 мм. Высота конуса 80 мм. Плоскость основания пирамиды параллельна плоскости основания конуса и выше ее на 10 мм.

Требуется:

- 1) построить фронтальную и горизонтальную проекции конуса с учетом выреза в форме пирамиды  $ABCD$  с соблюдением проекционной связи;
- 2) построить и обозначить проекции вершин пирамиды и границ участков линии выреза в конусе;
- 3) обозначить видимость линий конуса с вырезом;
- 4) оформить все изображения в соответствии с требованиями ЕСКД.



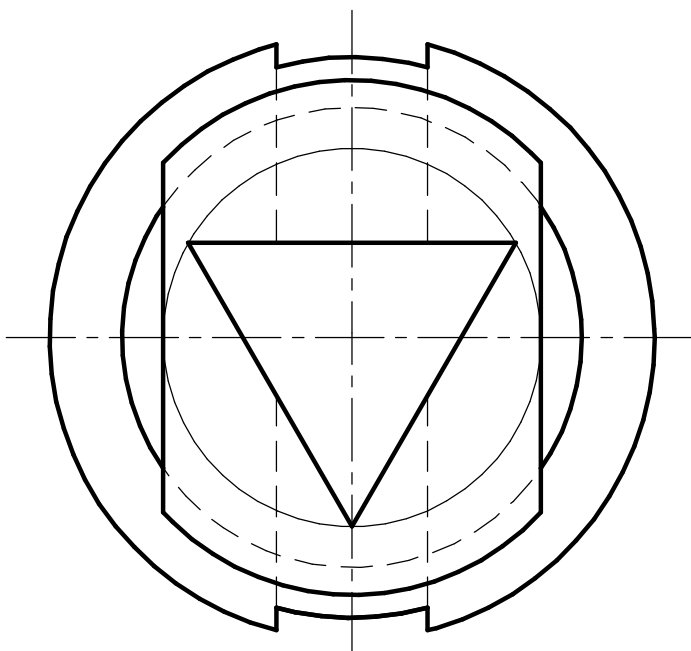
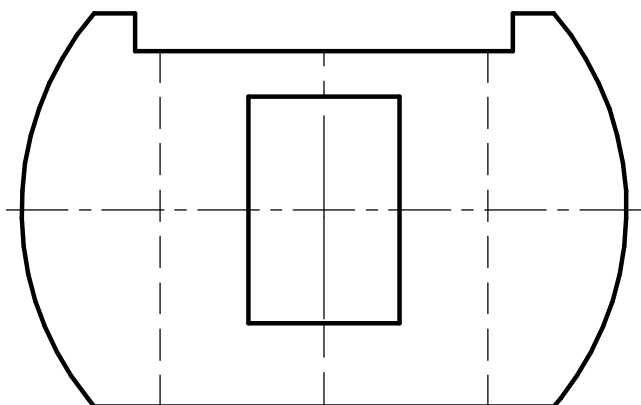


*Профиль: Компьютерное моделирование и графика;  
тур по математике и инженерной графике.  
Вариант: 2 класс: 10–11*

*Задача 6 (20 баллов). Даны две проекции предмета.*

*Требуется:*

- 1) выполнить профильный разрез для случая без обозначения разреза;*
- 2) главный вид оформить как соединение части вида и части фронтального разреза с плоскостью, проходящей через центр шара и обозначением разреза;*
- 3) все изображения выполнить в проекционной связи и оформить по ГОСТ 2.305–2008;*
- 4) решение оформить линиями по ГОСТ 2.303–68;*
- 5) штриховку выполнить по ГОСТ 2.306–68;*
- 6) проставить размеры по ГОСТ 2.307–2011;*
- 7) на видах сохранить линии невидимого контура, на разрезах линии невидимого контура не изображать.*



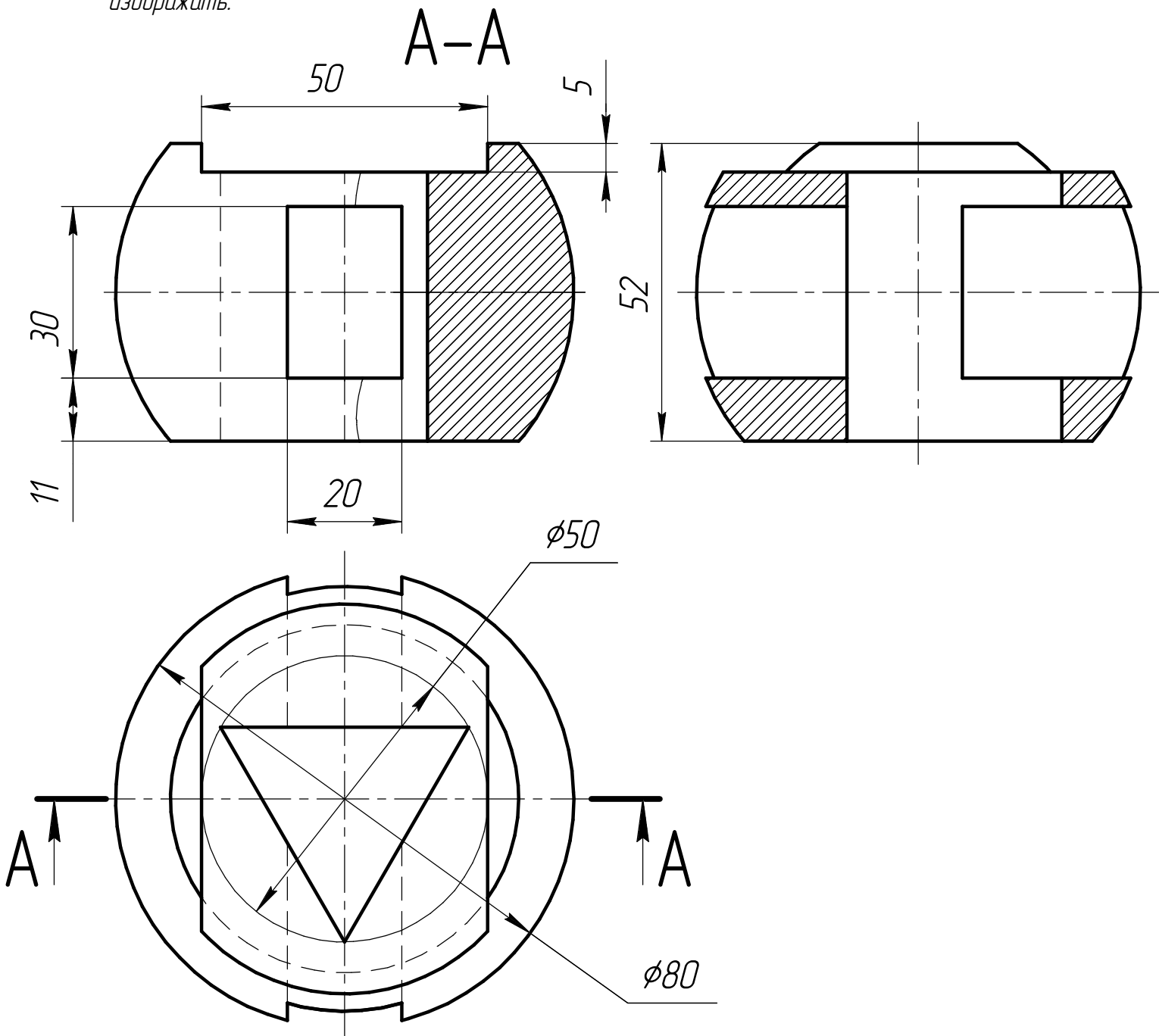


Профиль: Компьютерное моделирование и графика;  
тур по математике и инженерной графике.  
Вариант: 2 класс: 10–11

Задача 5 (20 баллов). Даны две проекции предмета.

Требуется:

- 1) выполнить профильный разрез для случая без обозначения разреза;
- 2) главный вид оформить как соединение части вида и части фронтального разреза с плоскостью, проходящей через центр шара и обозначением разреза;
- 3) все изображения выполнить в проекционной связи и оформить по ГОСТ 2.305–2008;
- 4) решение оформить линиями по ГОСТ 2.303–68;
- 5) штриховку выполнить по ГОСТ 2.306–68;
- 6) проставить размеры по ГОСТ 2.307–2011;
- 7) на видах сохранить линии невидимого контура, на разрезах линии невидимого контура не изображать.





## Критерии оценивания олимпиадной работы

**Профиль:** Компьютерное моделирование и графика

**Предмет:** Математика и инженерная графика (задания по инженерной графике)

**Класс:** 10 и 11

### Задание 4

максимальная оценка: **10 баллов**

Критерий (баллы, полученные по всем выполненным критериям суммируются)	Балл
Построена фронтальная и горизонтальная проекции конуса с учетом выреза в форме пирамиды с соблюдением проекционной связи	4
Построены и обозначены фронтальная и горизонтальная проекции вершин пирамиды и границ участков линии выреза в конусе	2
Верно обозначена видимость линий конуса с вырезом	3
Изображения чертежа оформлены в соответствии с требованиями ЕСКД	1

### Задание 6

максимальная оценка: **20 баллов**

Критерий (баллы, полученные по всем критериям суммируются)	Макс. балл
Выполнены общие требования: Построены три изображения в проекционной связи; на видах невидимый контур показан штриховой линией, на разрезах линии невидимого контура не обозначены. требования выполнены полностью: 2 балла требования не выполнены или выполнены частично: 0 баллов	2
Верно выполнен главный вид: Главный вид выполнен как соединение части вида и части фронтального разреза с указанием положения секущей плоскости и обозначения разреза (с указанием волнистой линии разделения вида и разреза справа от линии ребра) Указанные требования выполнены полностью: 4 балла Указанные требования не выполнены или выполнены частично: 0 баллов	4
Верно выполнен вид слева: Вид слева выполнен как полный профильный разрез без указания положения секущей плоскости и обозначения разреза (без указания волнистой линии разделения вида и разреза) Указанные требования выполнены полностью: 7 баллов Вид слева выполнен как соединение части вида и части профильного разреза без указания положения секущей плоскости и обозначения разреза с указанием волнистой линии разделения вида и разреза: 5 баллов Указанные требования не выполнены или выполнены частично: 0 баллов	7
Верно выполнен вид сверху (учитывать только при выполнении пункта 1): Вид сверху выполнен верно и оставлен без разреза: 1 балл Указанные требования не выполнены или выполнены частично: 0 баллов	1
Верно обозначены размеры: Все размеры обозначены правильно: 5 баллов Не менее 5 из 6 размеров обозначены правильно: 4 балла Менее 5 из 6 размеров обозначены правильно: 0 баллов	5
Соблюдены требования ЕСКД: Изображение, толщина линии и штриховка выполнены в соответствии с требованиями ЕСКД: 1 балл В изображении, толщине линии и/или штриховке есть существенные отступления от требований ЕСКД: 0 баллов	1