

9 класс**Задача 1 (10 баллов).**

Будущий акробат тренировался на одноколесном велосипеде, проезжая по полосе препятствий. Одно из них представляет собой выпуклую арку радиусом 5,4 метра. Масса акробата равняется 70 килограмм. Масса моноцикла 15 килограмм. Определите, с какой критической скоростью может двигаться акробат, чтобы не оторваться от седла велосипеда. Известно, что расстояние от поверхности дороги до центра масс акробата один метр, а до центра масс велосипеда 0,5 метра. Ускорение свободного падения принять за $g = 10 \text{ м/с}^2$. При решении задачи принять велосипед и акробата за материальные точки.

Решение:

Определим радиус движения центра масс акробата:

$$R = l + r = 6.4 \text{ м}$$

Запишем второй закон Ньютона при условии, что акробат перестал оказывать давление на седло ($N = 0$):

$$ma_{ц} = mg$$

$$\frac{v^2}{R} = g$$

$$\frac{v^2}{l+r} = g$$

$$v = \sqrt{g(l+r)} = 8 \text{ м/с}$$

Ответ: 8 м/с.

Критерии:

Верно записана формула второго закона Ньютона	2 балла
Верно записана формула центростремительного ускорения	3 балла
Верно найден радиус движения	2 балла
Приведены необходимые математические преобразования и получен верный численный ответ	3 балла
ИТОГО	10 баллов

Задача 2 (15 баллов).

В физической лаборатории на высоте одного метра от поверхности круглого стола и параллельно плоскости пола прикреплен светильник, представляющий собой прямую светодиодную ленту длиной 50 см. Определите максимальный и минимальный линейные размеры длины тени от стола, если центры стола и светильника лежат на одном перпендикуляре к полу, а высота стола равна его диаметру и составляет 1 метр. Толщиной светильника пренебречь. Светодиоды на ленте располагаются вплотную друг к другу и по всей длине светильника.

Решение:

Для определения минимальной длины тени сделаем рисунок вида спереди:



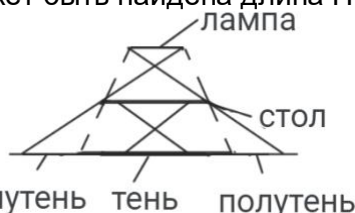
Для определения максимальной длины тени сделаем рисунок вида сбоку:



В первом случае минимальная длина тени находится из геометрических соотношений и равняется $l_1 = 1,5$ м, так как диаметр стола является средней линией трапеции.

Во втором случае максимальная длина тени может быть получена из подобия равнобедренных треугольников с основаниями стол и тень. В таком случае отношение длины тени к диаметру стола будет равняться отношению высоты от пола до лампы к высоте от стола до лампы $\frac{l_2}{D} = \frac{H+h}{h}$, где H - высота от стола до светильника, h - высота стола. Тогда $l_2 = \frac{(H+h)D}{h} = 2$ м.

Добавим, что вариант на рисунке ниже не подходит по условию, так как таким образом может быть найдена длина ПОЛУтени.



полутень тень полутень

Ответ: 1,5 метр и 2 метра.

Критерии:

Верно определен минимальный размер тени	5 баллов
Верно определен максимальный размер тени	10 баллов
ИТОГО	15 баллов
Примечание для экспертов: Если ученик верно определил максимальный размер полутени вместо тени, то ему выставляется 2 балла	

Задача 3 (15 баллов)

Компания, специализирующаяся на промышленном оборудовании, произвела бойлер, который оснащен системой экстренного снижения температуры. Устройство представляет собой большой цилиндрический бак, разделенный тонкой теплоизолирующей перегородкой на две части. В одной части находится тонна воды с нагревательным элементом, состоящим из восьми мощных участков, соединенных параллельно, каждый из которых имеет сопротивление 3 Ом. С другой стороны перегородки находится холодный раствор, предназначенный для быстрого снижения температуры в баке. Когда разница температур воды и раствора достигает десяти градусов, перегородка открывается и раствор перемешивается с водой. Известно, что если включить нагреватель после открытия перегородки и установления теплового равновесия, то всю смесь он будет нагревать на 1°C за 1 минуту. Бойлер имеет КПД 90% и питается от постоянного напряжения в 220 В. Определите теплоемкость раствора, который перемешивают с водой, если их начальная температура одинакова и равна 5°C . Удельная теплоемкость воды $4200 \frac{\text{Дж}}{\text{кг}\cdot\text{K}}$.

Решение:

Запишем КПД бойлера после установления теплового баланса:

$\eta = \frac{Q}{P\tau}$, где τ - время нагрева, Q - количество теплоты, P - мощность нагревателя.

Запишем формулу мощности нагревателя:

$P = \frac{U^2}{R_0}$, где U - питающее напряжение, а R_0 - общее сопротивление нагревателя.

Найдем общее сопротивление, зная, что резисторы подключены параллельно:

$R_0 = \frac{R}{n}$, где n - количество резисторов.

Тогда мощность будет равна:

$$P = \frac{nU^2}{R}$$

Запишем количество теплоты, идущее на нагрев всей смеси:

$$Q = C\Delta t + cm\Delta t$$

Соберем все в первой формуле:

$$\eta = \frac{(C\Delta t + cm\Delta t)R}{nU^2\tau}$$

Выразим теплоемкость раствора:

$$\frac{\eta nU^2\tau}{R} = C\Delta t + cm\Delta t$$

$$(C + cm)\Delta t = \frac{\eta nU^2\tau}{R}$$

$$C = \frac{\eta nU^2\tau}{R\Delta t} - cm$$

Подставим численные значения, учитывая, что $\frac{\tau}{\Delta t} = 60$:

$$C = \frac{0,9 \cdot 8 \cdot 220^2 \cdot 60}{3} - 4200 \cdot 1000 = 2769600 \frac{\text{Дж}}{\text{К}}$$

Ответ: 2,8 МДж/К.

Критерии:

Верно записана формула КПД	2 балла
Верно записано формула мощности через напряжение и сопротивление	2 балла
Верно записано количество теплоты, полученное раствором	4 балла
Верно записано количество теплоты, полученное водой	1 балл
Верно записан закон сохранения энергии	4 балла
Приведены необходимые математические преобразования и получен верный численный ответ	2 балла
ИТОГО	15 баллов

Задача 4 (20 баллов).

На некоторой планете с вдвое большей плотностью и диаметром в четыре раза меньше земного пропала атмосфера. Для определения, почему так произошло, на поверхность планеты был отправлен исследовательский модуль массой $m = 100$ кг. Чтобы он безопасно спустился на поверхность планеты и амортизаторы сработали как надо, его кинетическая энергия при касании не должна превышать $E = 200$ кДж. В тот момент снижения, когда его скорость станет горизонтальной к поверхности планеты, модуль полностью отключает двигатели. Определите максимально возможную скорость в этот момент, если известно, что после отключения двигателей до успешного приземления

прошло $t = 12$ секунд. Изменением силы гравитационного взаимодействия с высотой пренебречь. Ускорение свободного падения на поверхности Земли $g = 10 \text{ м/с}^2$. Объем шара определяется по формуле: $V = \frac{4}{3}\pi R^3$.

Решение:

Определим ускорение свободного падения на данной планете. Для этого воспользуемся законом всемирного тяготения:

$$F = G \frac{mM}{R^2}.$$

На поверхности планеты:

$$mg = G \frac{mM}{R^2}.$$

Тогда:

$$g = G \frac{M}{R^2}. \text{ Подставим массу планеты:}$$

$$g = G \frac{\rho V}{R^2} = G \frac{\rho \frac{4}{3}\pi R^3}{R^2} = G \frac{4}{3}\rho\pi R$$

Определим, во сколько раз от земного отличается ускорение свободного падения на планете:

$$a = G \frac{4}{3} 2\rho\pi \frac{R}{4} = \frac{1}{2} G \frac{4}{3}\rho\pi R = 0.5g$$

Теперь решим задачу на свободное падение. Так как известно, что начальная скорость горизонтальна, двигатели модуля были отключены, а ускорение свободного падения равно a , то вертикальная составляющая скорости в момент падения находится по формуле:

$$|v_y| = |at|$$

Горизонтальная составляющая скорости не изменялась. Тогда полная скорость в момент падения находится по теореме Пифагора:

$$v^2 = v_x^2 + v_y^2$$

Также полную скорость можно выразить из закона сохранения энергии:

$$E = \frac{mv^2}{2} \Rightarrow v^2 = \frac{2E}{m}$$

Приравняем эти уравнения:

$$v_x^2 + v_y^2 = \frac{2E}{m}$$

Выразим горизонтальную составляющую:

$$v_x = \sqrt{\frac{2E}{m} - v_y^2} = \sqrt{\frac{2E}{m} - (at)^2} = \sqrt{\frac{2E}{m} - (0.5gt)^2}$$

Подставим численные значения:

$$v_x = \sqrt{\frac{2 \cdot 200000}{100} - (0.5 \cdot 10 \cdot 12)^2} = 20 \text{ м/с}$$

Ответ: 20 м/с.

Критерии:

Верно записан закон всемирного тяготения	1 балла
Верно записана формула ускорения свободного падения	1 балла
Верно выражено ускорение свободного падения через плотность и радиус	3 балла

Верно записаны формулы кинематических взаимосвязей	2 балла
Верно выражена вертикальная составляющая скорости или правильно записан закон сохранения энергии	3 балла
Верно записана формула кинетической энергии	1 балл
Верно записана теорема Пифагора для определения конечной скорости	4 балла
Приведены необходимые математические преобразования и получен верный численный ответ	5 баллов
ИТОГО	20 баллов

Задача 5 (20 баллов)

Кубические шоколадные конфеты плотно упакованы в коробку, имеющую форму параллелепипеда, у которого нет квадратных граней. На коробке есть правдивая надпись: «Масса нетто (m) = 650 г, 240 штук». Протяжённость самого длинного ребра коробки $c = 150$ мм. Вдоль самого короткого ребра коробочки укладывается ровно 4 конфеты. Чему равна плотность шоколадных конфет? Известно, что если конфеты опустить в воду, то они в ней утонут. Плотность воды 1000 кг/м^3 .

Решение:

Так как в коробке находится 240 штук конфет, а вдоль ее короткого ребра укладывается 4 конфеты, то в одном слое находится ровно 60 конфет.

Если разложить 60 на множители, то получим $60 = 2 \cdot 2 \cdot 3 \cdot 5$

Следовательно, в одном слое может находиться $2 \cdot 30$, $4 \cdot 15$, $5 \cdot 12$ и $6 \cdot 10$ конфет. Первый вариант противоречит условию, так как будет сторона, в которой меньше 4 конфет. Второй вариант отпадает, так как тогда у коробки будет грань в форме квадрата. Значит, вдоль длинного ребра можно уложить 10 или 12 конфет.

Проверим оставшиеся варианты на соответствие условию задачи:

Если в коробке вдоль самого длинного ребра располагается 10 конфет, то одна сторона конфеты равняется 15 мм.

Тогда плотность конфет будет равна:

$$\rho_1 = \frac{m}{240 \cdot a^3} = \frac{650}{240 \cdot 3.375} \approx 0.8 \text{ г/см}^3.$$

Данный вариант не подходит, поскольку есть условие, что конфеты тонут в воде.

В случае, если вдоль самого длинного ребра располагается 12 конфет, одна сторона конфеты будет равняться 12,5 мм.

$$\rho_2 = \frac{m}{240 \cdot a^3} = \frac{650}{240 \cdot 1.953125} \approx 1.4 \text{ г/см}^3.$$

Данный вариант подходит по всем критериям.

Ответ: 1.4 г/см³.

Критерии:

Верно найдено количество конфет в одном слое	2 балла
Верно определены возможные варианты укладки конфет	8 баллов
Верно определено, какой вариант не	2 балла

подходит по условию самой короткой стороны	
Верно определено, какой вариант не подходит по условию отсутствия квадратных граней	2 балла
Верно записана формула плотности	2 балла
Приведены необходимые математические преобразования и получен верный численный ответ	4 балла
ИТОГО:	20 баллов

9 класс. 2 вариант.**Задача 1 (10 баллов).**

На мотошоу зрителям показали необычное средство передвижения - моноцикл, одноколесный мотоцикл. В процессе представления водитель моноцикла заехал в специальную яму, представляющий собой вогнутую часть полусферы с радиусом 15,5 м. Масса водителя в экипировке равняется 80 кг. Максимальная масса седока, которую выдерживает моноцикл, равна 200 кг. Определите, с какой максимальной скоростью может двигаться центр масс водителя, если известно, что расстояние от поверхности сферы до центра масс седока составляет 50 см. Ускорение свободного падения принять за $g = 10 \text{ м/с}^2$. При решении задачи принять водителя за материальную точку.

Решение:

Определим радиус движения центра масс водителя:

$R = r - l$, где r - радиус сферы, а l - высота от поверхности сферы до центра масс водителя.

Запишем второй закон Ньютона при условии, что на водителя действует сила реакции опоры, равная максимально возможному весу ($N = P$):

$$\begin{aligned} ma_{ц} &= N - mg \\ ma_{ц} &= P - mg \\ a_{ц} &= \frac{Mg - mg}{m} \\ \frac{v^2}{R} &= \frac{Mg - mg}{m} \\ \frac{v^2}{r - l} &= \frac{(M - m)g}{m} \end{aligned}$$

$$v = \sqrt{\frac{(M - m)g}{m}(r - l)} = 15 \text{ м/с}$$

Ответ: 15 м/с.

Критерии:

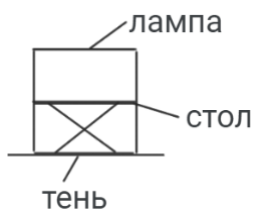
Верно записана формула второго закона Ньютона	3 балла
Верно записана формула центростремительного ускорения	2 балла
Верно найден радиус движения	2 балла
Приведены необходимые математические преобразования и получен верный численный ответ	3 балла
ИТОГО	10 баллов

Задача 2 (15 баллов).

На потолок высотой 3 метра висит люминесцентная лампа длиной 1 метр. Толщиной лампы пренебречь. Определите максимальный и минимальный линейные размеры тени на полу, если под лампой стоит круглый стол высотой 1 метр, диаметр которого равен длине лампы. Лампа и круг параллельны полу, а их центры расположены на одном перпендикуляре к плоскости пола.

Решение:

Для определения минимальной длины тени сделаем рисунок вида спереди:



Для определения максимальной длины тени сделаем рисунок вида сбоку:

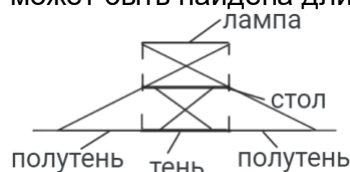


В первом случае минимальная длина тени будет равна диаметру стола, то есть длине лампы $l_1 = 1$ м.

Во втором случае максимальная длина тени может быть получена из подобия равнобедренных треугольников с основаниями стол и тень. В таком случае отношение длины тени к диаметру стола будет равняться отношению высоты от пола до лампы к высоте от стола до лампы $\frac{l_2}{D} = \frac{H}{H-h}$, где H - высота от пола до потолка, h - высота стола.

Тогда $l_2 = \frac{HD}{H-h} = 1,5$ м.

Добавим, что вариант на рисунке ниже не подходит по условию, так как таким образом может быть найдена длина ПОЛУтени.



Ответ: 1 метр и 1,5 метра.

Критерии:

Верно определен минимальный размер тени	5 баллов
Верно определен максимальный размер тени	10 баллов
ИТОГО	15 баллов
Примечание для экспертов: Если ученик верно определил максимальный размер полутени вместо тени, то ему выставляется 2 балла	

Задача 3 (15 баллов)

Фирма по производству машинного масла разработала систему срочного реагирования на перегрев производимого продукта. Система включает в себя огромный прямоугольный контейнер, разделенный тонким теплоизолирующим шлюзом на две секции. В одной секции нагревается масло при помощи десяти мощных нагревательных модулей, соединенных параллельно, причем сопротивление каждого модуля составляет 5 Ом. В другой части контейнера расположено две тонны порошкового холодильного агента, который используется для экстренного понижения температуры в системе. Когда температурный перепад между жидкостью и агентом достигает двадцати градусов, шлюз автоматически открывается, сбрасывая агент в масло для выравнивания температуры. Если после достижения теплового равновесия включить нагревательные модули, то температура смеси будет повышаться на $0,5^\circ\text{C}$ за минуту. КПД нагревательных модулей составляет 60%, а источник питания обеспечивает

постоянное напряжение 220 В. Определите теплоемкость масла, если ее начальная температура такая же, как у агента и равна 10°C. Удельная теплоемкость порошка холодильного агента равна 1500 Дж/кг·К.

Решение:

Запишем КПД нагревателя после установления теплового баланса:

$\eta = \frac{Q}{P\tau}$, где τ - время нагрева, Q - количество теплоты, P - мощность нагревателя.

Запишем формулу мощности нагревателя:

$P = \frac{U^2}{R_0}$, где U - питающее напряжение, а R_0 - общее сопротивление нагревателя.

Найдем общее сопротивление, зная, что резисторы подключены параллельно:

$R_0 = \frac{R}{n}$, где n - количество резисторов.

Тогда мощность будет равна:

$$P = \frac{nU^2}{R}$$

Запишем количество теплоты, идущее на нагрев всей смеси:

$$Q = C\Delta t + cm\Delta t$$

Соберем все в первой формуле:

$$\eta = \frac{(C\Delta t + cm\Delta t)R}{nU^2\tau}$$

Выразим теплоемкость агента:

$$\frac{\eta n U^2 \tau}{R} = C\Delta t + cm\Delta t$$

$$(C + cm)\Delta t = \frac{\eta n U^2 \tau}{R}$$

$$C = \frac{\eta n U^2 \tau}{R\Delta t} - cm$$

Подставим численные значения, учитывая, что $\frac{\tau}{\Delta t} = 120$:

$$C = \frac{0,6 \cdot 10 \cdot 220^2 \cdot 120}{5} - 1500 \cdot 2000 = 3969600 \frac{\text{Дж}}{\text{К}}.$$

Ответ: 4 МДж/К.

Критерии:

Верно записана формула КПД	2 балла
Верно записано формула мощности через напряжение и сопротивление	2 балла
Верно записано количество теплоты, полученное маслом	4 балла
Верно записано количество теплоты, полученное агентом	1 балл
Верно записан закон сохранения энергии	4 балла
Приведены необходимые математические преобразования и получен верный численный ответ	2 балла
ИТОГО	15 баллов

Задача 4 (20 баллов).

В астрономии всегда все рассчитывается с большой точностью. Например, известно, что у спутника Юпитера Каллисто диаметр в 2,6 раз меньше, чем у Земли. На Каллисто отправили межпланетный исследовательский зонд массой 121,68 кг. Задача зонда - определить, есть ли органические молекулы в недрах планеты. Для этого ему необходимо пробить некоторый поверхностный слой. В процессе снижения зонд отключает свои тормозящие двигатели в тот момент, когда его скорость относительно поверхности спутника направлена горизонтально и равна 3 м/с. Через 2 секунды после отключения двигателей зонд врезается в поверхность спутника, имея при этом кинетическую энергию в 947,56 Дж. Определите, во сколько раз плотность Каллисто отличается от земной. Изменением силы гравитационного взаимодействия с высотой пренебречь. Ускорение свободного падения на поверхности Земли $g = 10 \text{ м/с}^2$. Объем шара определяется по формуле: $V = \frac{4}{3}\pi R^3$. Атмосфера спутника разрежена настолько, что не оказывает сопротивления на движение зонда.

Решение:

Определим взаимосвязь ускорения свободного падения на поверхности Земли и ее плотности. Для этого воспользуемся законом всемирного тяготения:

$$F = G \frac{mM}{R^2}.$$

На поверхности Земли:

$$mg = G \frac{mM}{R^2}.$$

Тогда:

$$g = G \frac{M}{R^2}. \text{ Подставим массу Земли:}$$

$$g = G \frac{\rho V}{R^2} = G \frac{\rho \frac{4}{3}\pi R^3}{R^2} = G \frac{4}{3}\rho\pi R$$

Выразим радиус Земли:

$$R = \frac{3g}{4G\rho\pi}$$

Определим ускорение свободного падения на поверхности Каллисто:

$$a = G \frac{4}{3}\rho_k\pi \frac{R}{2,6} = \frac{1}{2,6} G \frac{4}{3}\rho_k\pi R$$

Подставим в это уравнение радиус Земли:

$$a = \frac{1}{2,6} G \frac{4}{3}\rho_k\pi R = \frac{1}{2,6}\rho_k \frac{g}{\rho}$$

Выразим отношение плотности Каллисто к плотности Земли:

$$\frac{\rho_k}{\rho} = \frac{2,6a}{g}$$

Теперь найдем ускорение свободного падения на поверхности Каллисто. Для этого решим задачу на свободное падение. Так как известно, что начальная скорость горизонтальна, двигатели модуля были отключены, то вертикальная составляющая скорости в момент падения находится по формуле:

$$|v_y| = |at| \Rightarrow |a| = \frac{|v_y|}{t}$$

Горизонтальная составляющая скорости не изменялась. Тогда полная скорость в момент падения находится по теореме Пифагора:

$$v^2 = v_x^2 + v_y^2$$

Также полную скорость можно выразить из закона сохранения энергии:

$$E = \frac{mv^2}{2} \Rightarrow v^2 = \frac{2E}{m}$$

Приравняем эти уравнения:

$$v_x^2 + v_y^2 = \frac{2E}{m}$$

Выразим вертикальную составляющую:

$$v_y = \sqrt{\frac{2E}{m} - v_x^2}$$

Подставим в значение ускорения:

$$a = \frac{\sqrt{\frac{2E}{m} - v_x^2}}{t}$$

Подставим ускорение в отношение плотностей и выразим итоговую формулу:

$$\frac{\rho}{\rho_k} = \frac{g}{2,6} \frac{t}{\sqrt{\frac{2E}{m} - v_x^2}} = \frac{1}{2,6} \sqrt{\frac{mg^2 t^2}{2E - mv_x^2}}$$

Подставим численные значения:

$$\frac{\rho}{\rho_k} = \frac{1}{2,6} \sqrt{\frac{121,68 \cdot 10^2 \cdot 2^2}{2 \cdot 947,56 - 121,68 \cdot 3^2}} = 3$$

Ответ: Плотность Каллисто в 3 раза меньше плотности Земли.

Критерии:

Верно записан закон всемирного тяготения	1 балла
Верно записана формула ускорения свободного падения	1 балла
Верно выражена плотность через ускорение свободного падения и радиус	3 балла
Верно записаны формулы кинематических взаимосвязей	2 балла
Верно выражена вертикальная составляющая скорости	3 балла
Верно записана формула кинетической энергии	1 балл
Верно записана теорема Пифагора для определения конечной скорости или правильно записан закон сохранения энергии	4 балла
Приведены необходимые математические преобразования и получен верный численный ответ	5 баллов
ИТОГО	20 баллов

Задача 5 (20 баллов)

Компания по производству развивающих настольных игр заказала партию из 240 пластиковых игральные кубиков. Кубики приехали плотно упакованными в тонкую коробку, вдоль самого короткого ребра которой укладывается ровно 4 кубика. Если же измерить самую длинную сторону упаковки, то ее длина составит 150 мм. На коробке

указано, что масса нетто составляет 680 грамм. Определите плотность материала кубиков, если известно, что они не тонут в воде. Плотность воды 1000 кг/м³.

Решение:

Так как в коробке находится 240 штук игральных костей, а вдоль ее короткого ребра укладывается 4 кубика, то в одном слое находится ровно 60 кубиков.

Если разложить 60 на множители, то получим $60 = 2 \cdot 2 \cdot 3 \cdot 5$

Следовательно, в одном слое может находиться $2 \cdot 30$, $4 \cdot 15$, $5 \cdot 12$ и $6 \cdot 10$ кубиков.

Первый вариант противоречит условию, так как будет сторона, в которой меньше 4 кубиков. Второй вариант отпадает, так как тогда у коробки будет грань в форме квадрата. Значит, вдоль длинного ребра можно уложить 10 или 12 кубиков.

Проверим оставшиеся варианты на соответствие условию задачи:

В случае, если вдоль самого длинного ребра располагается 12 кубиков, одна сторона кубика будет равняться 12,5 мм.

Тогда их плотность:

$$\rho_2 = \frac{m}{240 \cdot a^3} = \frac{680}{240 \cdot 1,953125} \approx 1,45 \text{ г/см}^3.$$

Данный вариант не подходит, поскольку есть условие, что кубики не тонут в воде.

Если в коробке вдоль самого длинного ребра располагается 10 кубиков, то одна сторона кубика равняется 15 мм.

Тогда плотность материала кубиков будет равна:

$$\rho_1 = \frac{m}{240 \cdot a^3} = \frac{680}{240 \cdot 3,375} \approx 0,85 \text{ г/см}^3.$$

Данный вариант подходит по всем критериям.

Ответ: 0,85 г/см³.

Критерии:

Верно найдено количество кубиков в одном слое	2 балла
Верно определены возможные варианты укладки кубиков	8 баллов
Верно определено, какой вариант не подходит по условию самой короткой стороны	2 балла
Верно определено, какой вариант не подходит по условию отсутствия квадратных граней	2 балла
Верно записана формула плотности	2 балла
Приведены необходимые математические преобразования и получен верный численный ответ	4 балла
ИТОГО:	20 баллов

Ситуационная задача

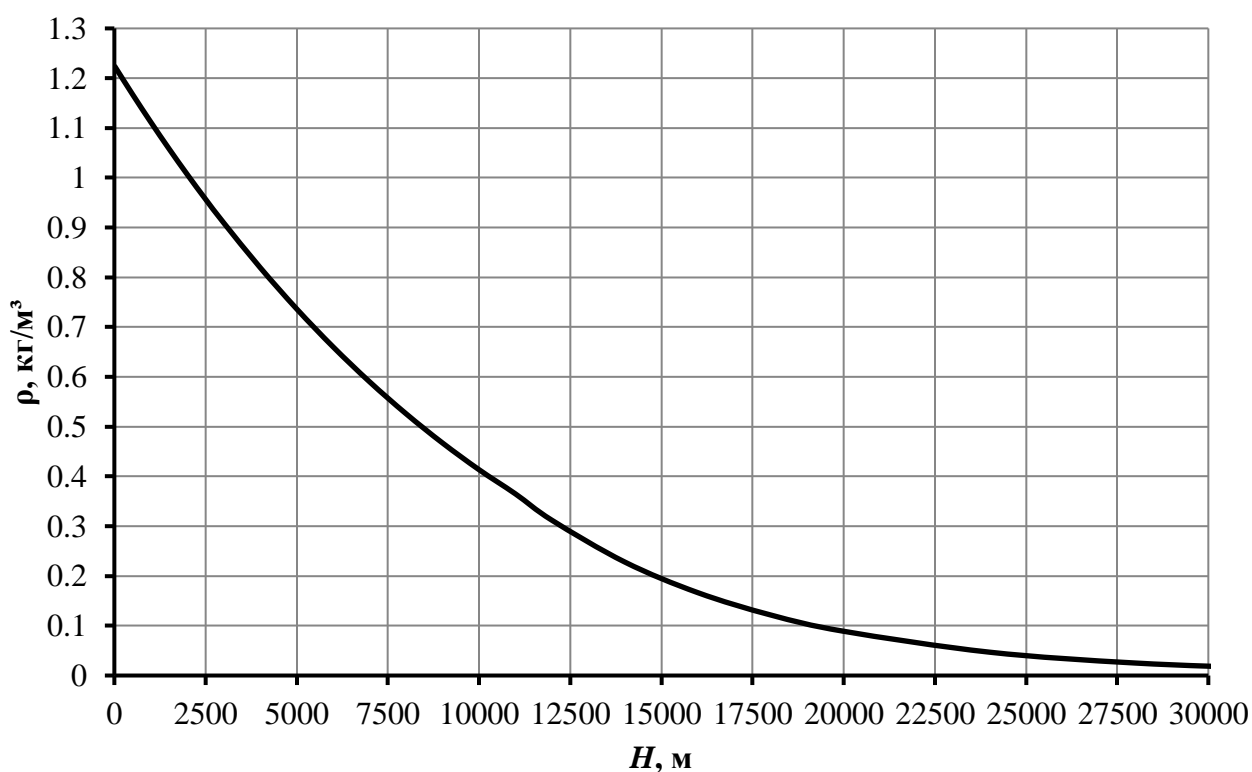
9 класс

Вариант 1

Для исследования атмосферы запустили мобильный метеозонд, представляющий собой блок измерительной аппаратуры, прикрепленный к воздушному шару диаметром 3 м, заполненному водородом под небольшим избыточным давлением. Шар привязан к якорю, установленному на поверхности земли условно невесомым тросом. В начальный момент времени дует ветер параллельно поверхности земли со скоростью 2,25 м/с, а трос находится под углом 5° к вертикали, плотность воздуха равна $1,15 \text{ кг/м}^3$. Внезапно трос оборвался.

Куда будет направлена скорость зонда сразу после обрыва троса? Ответ обосновать.

На какую высоту сможет подняться шар с аппаратурой, если плотность воздуха изменяется с высотой так, как показано на графике? Считать, что метеозонд сохраняет свой размер и целостность на протяжении всего полета.



Дополнительная информация:

Сила аэродинамического сопротивления шара определяется по формуле

$$F_s = S \cdot C_x \frac{\rho \cdot v^2}{2},$$

где C_x – коэффициент аэродинамического сопротивления, для сферы $C_x = 0,5$; S – площадь поперечного сечения шара, v – скорость набегающего потока воздуха (ветра).

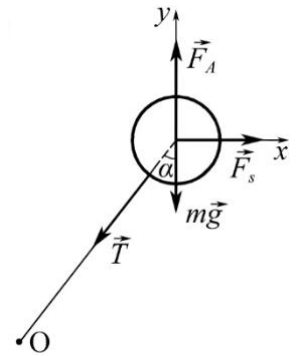
Решение:

Запишем второй закон Ньютона в проекциях на оси.

$$Y: F_a - mg - T \cos \alpha = 0;$$

$$X: F_s - T \sin \alpha = 0.$$

$$T = \frac{F_s}{\sin \alpha}$$



Из рисунка видно, что если трос оборвётся, то равнодействующая сил будет направлена под углом α к вертикали противоположно силе натяжения троса T . Следовательно, ускорение шара будет направлено также. Так как начальная скорость зонда равна нулю, то в первый момент после обрыва троса скорость будет направлена туда же.

После обрыва троса шар будет подниматься до тех пор, пока сила Архимеда не станет равна силе тяжести. Определим плотность воздуха для этого момента

$$F_a = mg; \rho g V = mg; \rho \frac{4}{3} \pi \frac{D^3}{8} = m \Rightarrow \rho = \frac{6m}{\pi D^3}.$$

Массу метеозонда с аппаратурой можно вычислить из уравнения

$$mg = F_a - \frac{F_s}{\operatorname{tg} \alpha},$$

$$m = \frac{\rho g \frac{4}{3} \pi \frac{D^3}{8} \operatorname{tg} \alpha - C_x \pi \frac{D^2}{4} \cdot \frac{\rho \cdot v^2}{2}}{g \operatorname{tg} \alpha} = \frac{\rho \pi D^2}{2g \operatorname{tg} \alpha} \left(\frac{Dg \operatorname{tg} \alpha}{3} - \frac{C_x \cdot v^2}{4} \right) = 4,5 \text{ кг.}$$

Найдем плотность воздуха на предельной высоте для зонда

$$\rho = \frac{6m}{\pi D^3} = \frac{6 \cdot 4,5}{3,14 \cdot 27} = 0,32 \frac{\text{кг}}{\text{м}^3}.$$

Из графика определим высоту, она равна 12000 м.

Ответ: под углом α к вертикали; $H = 12000$ м.

Критерии
Ситуационная задача

	Верные элементы решения	Количество баллов
1	Сформулирована расчётная схема (в том числе, графически), выделены и правильно формализованы все необходимые физические законы	0-5
2	Составлена система уравнений и математическая модель	0-5
3	Верно учтены технические параметры, характеристики и ограничения	0-5
4	Проведены расчеты, получен верный ответ, разумный с точки зрения физического смысла	0-5
	Итого	max 20