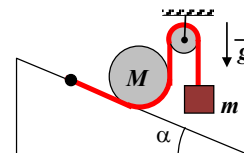


Задача 1 (5 баллов) На наклонной плоскости с углом наклона $\alpha = 45^\circ$ лежит бревно, имеющее форму цилиндра, масса которого равна $M = 5$ кг. Бревно удерживается от скатывания по наклонной плоскости с помощью веревки, огибающей бревно (см. рисунок). Один конец веревки закреплен на наклонной плоскости, а другой конец перекинут через блок, и на нем подвешен груз.

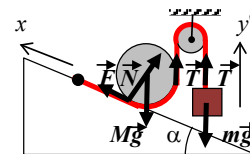


Чему равна масса m груза, при которой эта система находится в равновесии? Массой веревки пренебречь. Свисающие с блока отрезки веревки – вертикальны. Блок – гладкий.

Ответ. $m = \frac{M \sin \alpha}{1 + \sin \alpha} = \frac{M}{1 + \sqrt{2}} = M(\sqrt{2} - 1) = 2,1$ кг.

Решение.

На рисунке показаны силы, действующие на бревно и груз. Т.к. бревно в равновесии, то из правила моментов сил, действующих на бревно, относительно оси, проходящей через центр бревна, следует: $Fr = Tr$, где r – радиус бревна, $\Rightarrow F = T$.



Т.к. бревно и груз неподвижны, то в проекциях на оси x и y' , получим уравнения:

$$\begin{cases} F + T \sin \alpha - Mg \sin \alpha = 0, \\ T - mg = 0. \end{cases} \Rightarrow m = \frac{M \sin \alpha}{1 + \sin \alpha} = \frac{M}{1 + \sqrt{2}} = M(\sqrt{2} - 1) = 2,1 \text{ кг.}$$

Замечание. Балл, не снижается, если без доказательства считается, что $F = T$. Возможны также альтернативные решения задачи.

Критерии оценивания задачи 1.

	Элементы решения	Баллы (макс. 5 баллов)
1	Сделан рисунок, на котором показаны все силы, действующие на бревно и груз	+1 балл
2	Записаны уравнения, необходимые для решения задачи (условия равновесия бревна и груза) 1 балл, если не хватает только одного верного уравнения, необходимого для решения задачи	+2 балла
3	При наличии всех верных формул проделаны необходимые алгебраические преобразования.	+1 балл
4	Сделаны подстановки числовых значений и получен правильный ответ	+1 балл

Задача 2 (10 баллов). Небольшое тело массы m , имеющее положительный заряд $+q$, бросают с горизонтальной поверхности под углом $\alpha = 60^\circ$ к горизонту. Тело, пролетев некоторое расстояние, падает на поверхность. Чтобы увеличить горизонтальную дальность полета тела при той же начальной скорости и том же угле α , сразу в момент броска включается однородное электрическое поле, силовые линии которого параллельны горизонтальной поверхности. Чему равна величина напряженности этого электрического поля, при котором дальность полета тела увеличивается в 2 раза, по сравнению с дальностью полета тела в отсутствии поля. Во сколько раз при этом увеличивается скорость тела в момент падения на горизонтальную поверхность, по сравнению со скоростью падения на поверхность в отсутствии поля? Считать, что в процессе движения тела ускорение свободного падения не меняется и равно g . Траектория тела в процессе движения лежит в одной и той же вертикальной плоскости. Сопротивлением воздуха пренебречь.

Ответ. $E = \frac{mg}{q} \operatorname{ctg} \alpha = \frac{mg}{q\sqrt{3}}$, $\frac{v_n}{v_0} = \sqrt{9 \cos^2 \alpha + \sin^2 \alpha} = \sqrt{3}$.

Уравнения движения тела вдоль горизонтальной и вертикальной осей:

$$x(t) = v_0 t \cos \alpha + \frac{at^2}{2}, \quad y(t) = v_0 t \sin \alpha - \frac{gt^2}{2}, \quad \text{где } v_0 \text{ – начальная скорость тела, } a = \frac{qE}{m} \quad (1) \text{ –}$$

горизонтальное ускорение тела.

$$\text{Время падения } t_n \text{ на землю получим из условия: } y(t_n) = 0, \Rightarrow t_n = \frac{2v_0 \sin \alpha}{g} \quad (2).$$

$$\text{Дальность } s = x(t_n) = \frac{v_0^2 \sin 2\alpha}{g} + \frac{2av_0^2 \sin^2 \alpha}{g^2}, \text{ а в отсутствии поля } s_0 = \frac{v_0^2 \sin 2\alpha}{g}. \text{ С учетом}$$

$$\text{условия: } s = 2s_0, \Rightarrow \frac{v_0^2 \sin 2\alpha}{g} + \frac{2av_0^2 \sin^2 \alpha}{g^2} = \frac{2v_0^2 \sin 2\alpha}{g} \quad (3),$$

$$\Rightarrow a = g \operatorname{ctg} \alpha, \Rightarrow E = \frac{mg}{q} \operatorname{ctg} \alpha = \frac{mg}{q\sqrt{3}} \quad (4).$$

Проекция скорости тела в момент падения равны $v_x(t_n) = v_0 \cos \alpha + at_n = 3v_0 \cos \alpha$ и $v_y(t_n) = v_0 \sin \alpha - gt_n = -v_0 \sin \alpha$ (5).

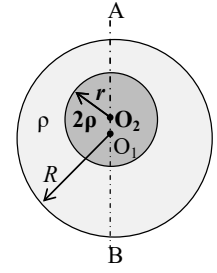
Модуль скорости в момент падения $v_n = \sqrt{v_x^2(t_n) + v_y^2(t_n)} = v_0 \sqrt{9 \cos^2 \alpha + \sin^2 \alpha}$. В отсутствие поля скорость падения равна v_0 . Тогда $\frac{v_n}{v_0} = \sqrt{9 \cos^2 \alpha + \sin^2 \alpha}$ (6).

Подставляя $\alpha = 60^\circ$, получим $\frac{v_n}{v_0} = \sqrt{9 \cos^2 \alpha + \sin^2 \alpha} = \sqrt{3}$.

Критерии оценивания задачи 2.

	Элементы решения	Баллы (макс. 10 баллов)
1	Получена формула (1) для горизонтального ускорения a заряженного тела в однородном электрическом поле	+1 балл
2	Получена формула для нахождения времени падения тела на землю t_n (2)	+1 балл
3	Записано алгебраическое уравнение (3), связывающее дальность полета тела с учетом поля и без поля	+2 балла
4	При наличии всех верных формул проделаны необходимые алгебраич. преобразования и получена формула для E (4). 1 балл, если в преобразованиях пропущены важные логические шаги или преобразования недостаточные 0 баллов, если преобразования отсутствуют или в них допущены ошибки	+2 балла
5	Записаны верные формулы для проекций скорости v_x и v_y (5)	+1 балл
6	При наличии всех верных формул проделаны необходимые алгебраич. преобразования и получена формула для v_n/v_0 (6). 1 балл, если в преобразованиях пропущены важные логические шаги или преобразования недостаточные 0 баллов, если преобразования отсутствуют или в них допущены ошибки	+2 балл
7	Сделана подстановка $\alpha = 60^\circ$ и получен правильный ответ для отношения v_n/v_0 .	+1 балл

Задача 3 (10 баллов). При исследовании планеты Икс было обнаружено, что ускорение свободного падения в разных точках поверхности планеты разное. Точные измерения ускорения свободного падения в двух полюсах планеты А и В, показали, что на полюсе А ускорение свободного падения на 10% больше, чем на полюсе В. Для объяснения этого эффекта была предложена следующая модель. Будем считать планету Икс однородным шаром радиусом R , имеющим плотность вещества ρ во всех точках планеты, за исключением точек, находящихся внутри аномальной сферической области, где плотность вещества 2ρ (см. рисунок).



Принимая расстояние между центром планеты O_1 и центром аномальной области O_2 равным $O_1O_2 = \frac{R}{4}$, определите радиус r аномальной области, при котором соотношение между ускорениями свободного падения на полюсах планеты соответствует измеренным значениям. Какую долю составляет при этом масса вещества, заполняющего аномальную область, по отношению к массе всей планеты? Объем V шара радиусом R вычисляется по формуле: $V = \frac{4}{3}\pi R^3$.

Ответ. $r = R \cdot \sqrt[3]{\frac{225}{2416}} = 0,45R$, $\frac{m_{ан.}}{M} = \frac{450}{2641} = 0,17$.

Решение.

Планету Икс с аномальной областью внутри можно представить, как два однородных шара, имеющих одинаковую плотность ρ , с центрами в точках O_1 и O_2 , и радиусами R и r соответственно. Тогда массы каждого из этих шаров равны $M_1 = \frac{4}{3}\pi\rho R^3$ и $M_2 = \frac{4}{3}\pi\rho r^3$. Масса планеты равна $M = M_1 + M_2 = \frac{4}{3}\pi\rho(R^3 + r^3)$.

Сила притяжения точечной массы m , действующая в полюсе А равна $F_A = F_1 + F_{2A}$, а сила притяжения такой же массы m но в полюсе В равна $F_B = F_1 + F_{2B}$, где $F_1 = G\frac{mM_1}{R^2}$, $F_{2A} = G\frac{mM_2}{\left(R - \frac{R}{4}\right)^2}$, $F_{2B} = G\frac{mM_2}{\left(R + \frac{R}{4}\right)^2}$. Тогда ускорения свободного падения в точках А и В

равны соответственно $g_A = \frac{F_A}{m} = \frac{4}{3}\pi G\rho\left(R + \frac{16r^3}{9R^2}\right)$ и $g_B = \frac{F_B}{m} = \frac{4}{3}\pi G\rho\left(R + \frac{16r^3}{25R^2}\right)$.

По условию $g_A = 1,1g_B \Rightarrow R + \frac{16r^3}{9R^2} = 1,1\left(R + \frac{16r^3}{25R^2}\right) \Rightarrow r = R \cdot \sqrt[3]{\frac{225}{2416}} = 0,45R$.

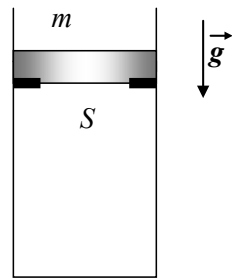
Масса вещества аномальной области равна $m_{ан.} = \frac{4}{3}\pi \cdot 2\rho r^3$. Тогда $\frac{m_{ан.}}{M} = \frac{2}{1 + \left(\frac{R}{r}\right)^3}$.

$\Rightarrow \frac{m_{ан.}}{M} = \frac{450}{2641} = 0,17$.

Критерии оценивания задачи 3.

	Элементы решения	Баллы (макс. 10 баллов)
1	Указано, что планету с аномалией можно представить как два однородных шара	+1 балл
2	Записана связь ускорения свободного падения и силы притяжения	+1 балл
3	Получена формула для ускорения свободного падения в т. А	+2 балла
4	Получена формула для ускорения свободного падения в т. В	+2 балла
5	При наличии всех верных формул проделаны необходимые алгебраические преобразования и получена формула для r . 1 балл, если в преобразованиях пропущены важные логические шаги или преобразования недостаточные 0 баллов, если преобразования отсутствуют или в них допущены ошибки	+2 балла
6	Проделаны необходимые алгебраические преобразования и получена формула для отношения m_a/M . 1 балл, если в преобразованиях пропущены важные логические шаги или преобразования недостаточные 0 баллов, если преобразования отсутствуют или в них допущены ошибки	+2 балл

Задача 4 (10 баллов). В вертикальном теплоизолированном сосуде под поршнем массы m находится идеальный газ, молярная теплоемкость которого при постоянном объеме равна c_{mV} . Снаружи сосуда – вакуум, поршень удерживается от падения тонкими упорами (см. рисунок). Начальное давление газа под поршнем p_1 . Площадь поперечного сечения сосуда и поршня S . Под тяжестью поршня оба упора внезапно отваливаются и поршень падает вниз, так, что объем газа уменьшается в N раз. Чему при этом будет равно относительное увеличение температуры газа $\frac{\Delta T}{T_1}$?



Начальную температуру газа T_1 считать неизвестной. Трение между поршнем и стенками сосуда отсутствует.

Ответ.
$$\frac{\Delta T}{T_1} = \frac{mgR}{c_{mV}Sp_1} \left(1 - \frac{1}{N}\right).$$

Решение.

Для теплоизолированного сосуда $Q = \Delta U + A = 0$, где $\Delta U = c_{mV} \nu \Delta T$, Количество вещества ν найдем из уравнения состояния идеального газа: $\nu = \frac{p_1 V_1}{RT_1}$, где V_1 и T_1 – начальные объем и температура газа. По условию, конечный объем $V_2 = \frac{V_1}{N}$.

Работа, совершаемая поршнем, равна $A' = mg\Delta h = \frac{mg}{S}(V_1 - V_2)$. Тогда работа газа

$$A = -A' = -\frac{mgV_1}{S} \left(1 - \frac{1}{N}\right).$$
 Пользуясь первым началом термодинамики для теплоизолированной системы и формулой для изменения внутренней энергии, получим

$$c_{mV} \frac{p_1 V_1}{RT_1} \Delta T = \frac{mgV_1}{S} \left(1 - \frac{1}{N}\right), \Rightarrow \frac{\Delta T}{T_1} = \frac{mgR}{c_{mV}Sp_1} \left(1 - \frac{1}{N}\right).$$

Критерии оценивания задачи 4.

	Элементы решения	Баллы (макс. 10 баллов)
1	Для решения задачи используется уравнение состояния идеального газа	+1 балл
2	Для решения задачи используется формула для внутренней энергии одноатомного газа через молярную теплоемкость	+2 балл
3	Используется первое начало термодинамики для теплоизолированной системы	+1 балл
4	Получена верная формула для работы газа А	+2 балла
5	При наличии всех верных формул проделаны необходимые алгебраические преобразования и получен правильный ответ. 3 балла, если ответ – верный, но имеются лишние (неверные) записи 1 балл, если в преобразованиях пропущены важные логические шаги или преобразования недостаточные 0 баллов, если преобразования отсутствуют или в них допущены ошибки	+4 балла

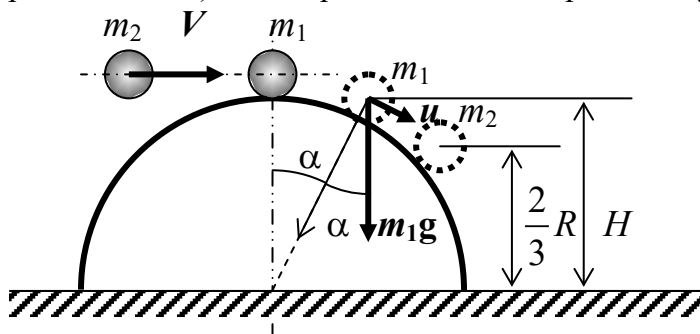
Задача 5 (15 баллов). На вершине гладкого полусферического купола радиуса R находится небольшой шарик. На него налетает такой же по размерам шарик. В результате упругого центрального удара шарики начинают двигаться по поверхности купола. Один из шариков отрывается от поверхности полусферы на высоте $h = \frac{2}{3}R$, а другой на высоте $H = \frac{3}{4}R$ от основания купола. Определите отношение масс шариков и скорость налетающего шарика сразу перед ударом.

Ответ. $\frac{m_2}{m_1} = 1, V = \sqrt{g(3H - 2R)} = \frac{\sqrt{gR}}{2}$.

Решение.

Предположим, что масса шарика на вершине купола равна m_1 , а масса налетающего шарика – m_2 (см. рис.). Скорость налетающего шарика V . Сначала выясним, какой из шариков после удара оторвется на высоте $h = \frac{2}{3}R$. Пусть масса этого шарика m_i , а скорость, полученная после столкновения шаров u_i .

Тогда для этого шарика получим следующую систему (в момент отрыва сила реакции $N = 0$), u – скорость в момент отрыва, α – угол отрыва.



$$\begin{cases} \frac{m_i V_i^2}{2} + m_i g R = \frac{m_i u^2}{2} + m_i g h, \\ \frac{m_i u^2}{R} = m_i g \cos \alpha, \\ h = R \cos \alpha. \end{cases}$$

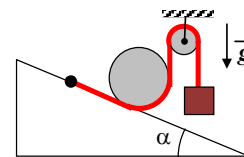
Данная система описывает движение любого из шариков до точки отрыва. Решая эту систему, получим, что $V_i = \sqrt{g(3h - 2R)}$. Если $h = \frac{2}{3}R$, то получается что $V_i = 0$. Т.к. шарик m_1 , неподвижно лежащий на вершине купола до столкновения, не может после столкновения остаться неподвижным, значит шарик, который отрывается на высоте

$h = \frac{2}{3}R$, это налетающий шарик, т.е. шарик m_2 . При этом после столкновения его скорость становится равной нулю. Такое возможно, только если упругий удар происходит между шариками одинаковой массы, значит $\frac{m_2}{m_1} = 1$, в этом случае шарики обмениваются скоростями. Таким образом, шарик m_1 приобретает после столкновения скорость V , которая была у налетающего шарика. Чтобы ее найти, необходимо снова записать систему, аналогичную приведенной выше. Можно воспользоваться уже полученным результатом, заменив в нем h на $H = \frac{3}{4}R$: $V = \sqrt{g(3H - 2R)} = \frac{\sqrt{gR}}{2}$.

Критерии оценивания задачи 5.

	Элементы решения	Баллы (макс. 15 баллов)
1	Используется условие отрыва $N=0$	+1 балл
2	Записаны все необходимые уравнения для описания отрыва одного из шариков, приводящие к верному ответу По +1 баллу за каждое верное уравнение (максимум 3 балла) +3 балла за верные и полные алгебраические преобразования Если в преобразованиях пропущены важные логические шаги или преобразования недостаточные, то можно добавить только 1 балл При ошибке в преобразованиях или их отсутствии баллы не добавляются	Максимум 6 баллов
3	Записаны все необходимые уравнения или приведены верные рассуждения, приводящие к правильному ответу, при описании столкновения шариков В случае неверного ответа, если записаны только верные уравнения, описывающие столкновения шаров (законы сохранения импульса, и энергии), то +1 балл за каждое верное уравнение.	Максимум 6 баллов
4	Получен верный ответ на первый вопрос (чему равно отношение масс шариков)	+1 балл
5	Получен верный ответ на второй вопрос (скорость V налетающего шарика перед ударом)	+1 балл

Задача 1 (5 баллов) На наклонной плоскости лежит бревно, имеющее форму цилиндра. Бревно удерживается от скатывания по наклонной плоскости с помощью веревки, огибающей бревно (см. рисунок). Один конец веревки закреплен на наклонной плоскости, а другой конец перекинут через блок, и на нем подвешен груз, масса которого в 3 раза меньше массы бревна.



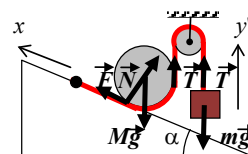
Чему равен угол наклона α наклонной плоскости, при котором эта система находится в равновесии? Массой веревки пренебречь. Свисающие с блока отрезки веревки – вертикальны. Блок – гладкий.

Ответ. $\alpha = 30^\circ$.

Решение.

Обозначим: M – масса бревна, m – масса груза, тогда $k = \frac{M}{m} = 3$.

На рисунке показаны силы, действующие на бревно и груз. Т.к. бревно в равновесии, то из правила моментов сил, действующих на бревно, относительно оси, проходящей через центр бревна, следует: $Fr = Tr$, где r – радиус бревна, $\Rightarrow F = T$.



Т.к. бревно и груз неподвижны, то в проекциях на оси x и y' , получим уравнения:

$$\begin{cases} F + T \sin \alpha - Mg \sin \alpha = 0, \\ T - mg = 0. \end{cases} \Rightarrow \sin \alpha = \frac{m}{M - m} = \frac{1}{k - 1} = \frac{1}{2}, \Rightarrow \alpha = 30^\circ.$$

Замечание. Балл, не снижается, если без доказательства считается, что $F = T$. Возможны также альтернативные решения задачи.

Критерии оценивания задачи 1.

	Элементы решения	Баллы (макс. 5 баллов)
1	Сделан рисунок, на котором показаны все силы, действующие на бревно и груз	+1 балл
2	Записаны уравнения, необходимые для решения задачи (условия равновесия бревна и груза)	+2 балла
	1 балл, если не хватает только одного верного уравнения, необходимого для решения задачи	
3	При наличии всех верных формул проделаны необходимые алгебраические преобразования.	+1 балл
4	Сделаны подстановки числовых значений и получен правильный ответ	+1 балл

Задача 2 (10 баллов). Небольшое тело массы m , имеющее положительный заряд $+q$, бросают с горизонтальной поверхности со скоростью v_0 под углом $\alpha = 60^\circ$ к горизонту. На тело, в процессе движения, помимо гравитационного поля Земли, действует однородное электрическое поле, силовые линии которого параллельны горизонтальной поверхности и направлены так, что поначалу электрическое поле тормозит движение тела. Чему равна величина напряженности этого электрического поля, если тело спустя некоторое время возвращается в исходную точку? На какое максимальное расстояние по горизонтали от точки броска смещается тело в процессе движения? Считать, что в процессе движения тела ускорение свободного падения не меняется и равно g . Траектория тела в процессе движения лежит в одной и той же вертикальной плоскости. Сопротивлением воздуха пренебречь.

$$\text{Ответ. } E = \frac{mg}{q} \operatorname{ctg} \alpha = \frac{mg}{q\sqrt{3}}, \quad x_{\max} = \frac{v_0^2 \sin \alpha \cos \alpha}{2g} = \frac{v_0^2 \sin 2\alpha}{4g} = \frac{v_0^2 \sqrt{3}}{8g}.$$

Решение.

Уравнения движения тела вдоль горизонтальной и вертикальной осей:
 $x(t) = v_0 t \cos \alpha - \frac{at^2}{2}$, $y(t) = v_0 t \sin \alpha - \frac{gt^2}{2}$, где v_0 – начальная скорость тела, $a = \frac{qE}{m}$ (1) – горизонтальное ускорение тела.

Время падения t_n на землю получим из условия: $y(t_n) = 0$, $\Rightarrow t_n = \frac{2v_0 \sin \alpha}{g}$ (2). Из

$$\text{условия: } x(t_n) = \frac{2v_0^2 \sin \alpha \cos \alpha}{g} - \frac{2av_0^2 \sin^2 \alpha}{g^2} = 0 \quad (3),$$

$$\Rightarrow a = g \operatorname{ctg} \alpha, \Rightarrow E = \frac{mg}{q} \operatorname{ctg} \alpha = \frac{mg}{q\sqrt{3}} \quad (4).$$

Максимальное расстояние по горизонтали тело пройдет в момент t_1 , который можно найти из условия: $v_x(t_1) = v_0 \cos \alpha - at_1 = 0$, тогда $x_{\max} = v_0 t_1 \cos \alpha - \frac{at_1^2}{2}$ (5).

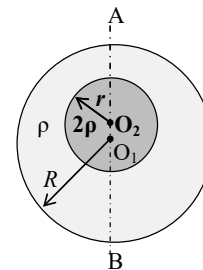
$$\Rightarrow t_1 = \frac{v_0 \cos \alpha}{a} = \frac{v_0 \sin \alpha}{g}, \Rightarrow x_{\max} = \frac{v_0^2 \sin \alpha \cos \alpha}{2g} = \frac{v_0^2 \sin 2\alpha}{4g} \quad (6).$$

Подставляя $\alpha = 60^\circ$, получим $x_{\max} = \frac{v_0^2 \sqrt{3}}{8g}$.

Критерии оценивания задачи 2.

	Элементы решения	Баллы (макс. 10 баллов)
1	Получена формула (1) для горизонтального ускорения a заряженного тела в однородном электрическом поле	+1 балл
2	Получена формула для нахождения времени падения тела на землю t_n (2)	+1 балл
3	Записано алгебраическое уравнение (3), учитывающее, что тело вернулось в исходную точку	+2 балла
4	При наличии всех верных формул проделаны необходимые алгебраич. преобразования и получена формула для E (4). 1 балл, если в преобразованиях пропущены важные логические шаги или преобразования недостаточные 0 баллов, если преобразования отсутствуют или в них допущены ошибки	+2 балла
5	Записаны верные выражения для v_x и x_{\max} (5)	+1 балл
6	При наличии всех верных формул проделаны необходимые алгебраич. преобразования и получена формула для x_{\max} (6). 1 балл, если в преобразованиях пропущены важные логические шаги или преобразования недостаточные 0 баллов, если преобразования отсутствуют или в них допущены ошибки	+2 балл
7	Сделана подстановка $\alpha = 60^\circ$ и получен правильный ответ для отношения x_{\max} .	+1 балл

Задача 3 (10 баллов). При исследовании планеты Икс было обнаружено, что ускорение свободного падения в разных точках поверхности планеты разное. Точные измерения ускорения свободного падения в двух полюсах планеты А и В, показали, что на полюсе А ускорение свободного падения на 10% больше, чем на полюсе В. Для объяснения этого эффекта была предложена следующая модель. Будем считать планету Икс однородным шаром радиусом R , имеющим плотность вещества ρ во всех точках планеты, за исключением точек, находящихся внутри аномальной сферической области, где плотность вещества 2ρ (см. рисунок).



Принимая расстояние между центром планеты O_1 и центром аномальной области O_2 равным $O_1O_2 = \frac{R}{5}$, определите радиус r аномальной области, при котором соотношение между ускорениями свободного падения на полюсах планеты соответствует измеренным значениям. Какую долю составляет при этом масса вещества, заполняющего аномальную область, по отношению к массе всей планеты? Объем V шара радиусом R вычисляется по формуле: $V = \frac{4}{3}\pi R^3$.

Ответ. $r = R \cdot \sqrt[3]{\frac{72}{575}} = 0,5R$, $\frac{m_{ан.}}{M} = \frac{144}{647} = 0,22$.

Решение.

Планету Икс с аномальной областью внутри можно представить, как два однородных шара, имеющих одинаковую плотность ρ , с центрами в точках O_1 и O_2 , и радиусами R и r соответственно. Тогда массы каждого из этих шаров равны $M_1 = \frac{4}{3}\pi\rho R^3$ и $M_2 = \frac{4}{3}\pi\rho r^3$. Масса планеты равна $M = M_1 + M_2 = \frac{4}{3}\pi\rho(R^3 + r^3)$.

Сила притяжения точечной массы m , действующая в полюсе А равна $F_A = F_1 + F_{2A}$, а сила притяжения такой же массы m но в полюсе В равна $F_B = F_1 + F_{2B}$, где $F_1 = G\frac{mM_1}{R^2}$, $F_{2A} = G\frac{mM_2}{\left(R - \frac{R}{5}\right)^2}$, $F_{2B} = G\frac{mM_2}{\left(R + \frac{R}{5}\right)^2}$. Тогда ускорения свободного падения в точках А и В

равны соответственно $g_A = \frac{F_A}{m} = \frac{4}{3}\pi G\rho\left(R + \frac{25r^3}{16R^2}\right)$ и $g_B = \frac{F_B}{m} = \frac{4}{3}\pi G\rho\left(R + \frac{25r^3}{36R^2}\right)$.

По условию $g_A = 1,1g_B \Rightarrow R + \frac{25r^3}{16R^2} = 1,1\left(R + \frac{25r^3}{36R^2}\right) \Rightarrow r = R \cdot \sqrt[3]{\frac{72}{575}} = 0,5R$.

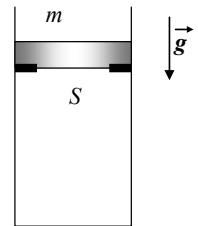
Масса вещества аномальной области равна $m_{ан.} = \frac{4}{3}\pi \cdot 2\rho r^3$. Тогда $\frac{m_{ан.}}{M} = \frac{2}{1 + \left(\frac{R}{r}\right)^3}$.

$\Rightarrow \frac{m_{ан.}}{M} = \frac{144}{647} = 0,22$.

Критерии оценивания задачи 3.

	Элементы решения	Баллы (макс. 10 баллов)
1	Указано, что планету с аномалией можно представить как два однородных шара	+1 балл
2	Записана связь ускорения свободного падения и силы притяжения	+1 балл
3	Получена формула для ускорения свободного падения в т. А	+2 балла
4	Получена формула для ускорения свободного падения в т. В	+2 балла
5	При наличии всех верных формул проделаны необходимые алгебраические преобразования и получена формула для r . 1 балл, если в преобразованиях пропущены важные логические шаги или преобразования недостаточные 0 баллов, если преобразования отсутствуют или в них допущены ошибки	+2 балла
6	Проделаны необходимые алгебраические преобразования и получена формула для отношения m_a/M . 1 балл, если в преобразованиях пропущены важные логические шаги или преобразования недостаточные 0 баллов, если преобразования отсутствуют или в них допущены ошибки	+2 балл

Задача 4 (10 баллов). В вертикальном теплоизолированном сосуде под массивным поршнем находится идеальный газ, молярная теплоемкость которого при постоянном объеме равна c_{mV} . Снаружи сосуда – вакуум, поршень удерживается от падения тонкими упорами (см. рисунок). Начальное давление газа под поршнем p_1 . Площадь поперечного сечения сосуда и поршня S . Под тяжестью поршня оба упора внезапно отваливаются и поршень падает вниз.



Считая известными значения относительного уменьшения объема газа $\varepsilon_V = \frac{|\Delta V|}{V_1}$ и относительного увеличения его температуры $\varepsilon_T = \frac{\Delta T}{T_1}$ после того, как поршень снова окажется в равновесии, найдите массу m поршня. Начальный объем газа V_1 и его начальная температура T_1 не известны. Трение между поршнем и стенками сосуда отсутствует.

Ответ. $m = \frac{c_{mV} p_1 S \varepsilon_T}{g R \varepsilon_V}$.

Решение.

Для теплоизолированного сосуда $Q = \Delta U + A = 0$, где $\Delta U = c_{mV} \nu \Delta T$, Количество вещества ν найдем из уравнения состояния идеального газа: $\nu = \frac{p_1 V_1}{R T_1}$, где V_1 и T_1 – начальные объем и температура газа.

Работа, совершаемая поршнем, равна $A' = mg \Delta h = \frac{mg}{S} (V_1 - V_2)$, где V_2 – конечный объем газа. Тогда работа газа $A = -A' = -\frac{mg |\Delta V|}{S} = -\frac{mg V_1}{S} \varepsilon_V$. Пользуясь первым началом термодинамики для теплоизолированной системы и формулой для изменения внутренней энергии, получим

$$c_{mV} \frac{p_1 V_1}{RT_1} \Delta T = \frac{mgV_1}{S} \varepsilon_V, \Rightarrow c_{mV} \frac{p_1}{R} \varepsilon_T = \frac{mg}{S} \varepsilon_V, \Rightarrow m = \frac{c_{mV} p_1 S \varepsilon_T}{gR \varepsilon_V}.$$

Критерии оценивания задачи 4.

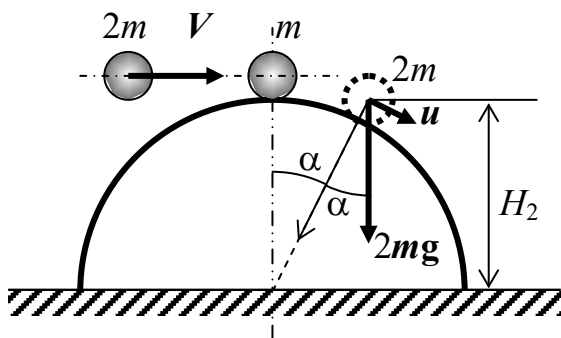
	Элементы решения	Баллы (макс. 10 баллов)
1	Для решения задачи используется уравнение состояния идеального газа	+1 балл
2	Для решения задачи используется формула для внутренней энергии одноатомного газа через молярную теплоемкость	+2 балл
3	Используется первое начало термодинамики для теплоизолированной системы	+1 балл
4	Получена верная формула для работы газа А	+2 балла
5	При наличии всех верных формул проделаны необходимые алгебраические преобразования и получен правильный ответ. 3 балла, если ответ – верный, но имеются лишние (неверные) записи 1 балл, если в преобразованиях пропущены важные логические шаги или преобразования недостаточные 0 баллов, если преобразования отсутствуют или в них допущены ошибки	+4 балла

Задача 5 (15 баллов). На вершине гладкого полусферического купола радиуса R находится небольшой шарик массы m . На него налетает такой же по размерам шарик, но массы $2m$. Происходит упругий центральный удар. Скорость налетающего шарика V – минимально возможная, чтобы шарик массы m сразу же после удара оторвался от купола. Чему равна скорость V ? На какой высоте от основания купола оторвется шарик массы $2m$, двигавшийся по куполу после удара?

Ответ. $V = \frac{3}{4} \sqrt{gR}$, $H_2 = \frac{33}{48} R$.

Решение.

Обозначим скорость налетающего шарика V (см. рис.). Рассмотрим сначала столкновение шариков, обозначим, скорости шарика массами m и $2m$ после столкновения – u_1 и u_2 соответственно.



$$\begin{cases} 2mV = mu_1 + 2mu_2, \\ \frac{2mV^2}{2} = \frac{mu_1^2}{2} + \frac{2mu_2^2}{2}. \end{cases} \Rightarrow \begin{cases} u_1 = \frac{4}{3}V, \\ u_2 = \frac{1}{3}V. \end{cases}$$

Т.к. первый шарик отрывается сразу после удара, то

$$mg = \frac{mu_1^2}{R}, \Rightarrow u_1^2 = gR. \Rightarrow \frac{4}{3}V = \sqrt{gR}, \Rightarrow V = \frac{3}{4} \sqrt{gR}.$$

Тогда скорость второго шарика сразу после удара равна $u_2 = \frac{1}{3}V = \frac{1}{4} \sqrt{gR}$.

Обозначим скорость второго шарика в момент отрыва u . Тогда для этого шарика получим следующую систему (в момент отрыва сила реакции $N = 0$).

$$\left\{ \begin{array}{l} \frac{2mu_2^2}{2} + 2mgR = \frac{2mu^2}{2} + 2mgH_2, \\ \frac{2mu^2}{R} = 2mg \cos \alpha, \\ H_2 = R \cos \alpha. \end{array} \right. \Rightarrow H_2 = \frac{u_2^2}{3g} + \frac{2}{3}R = \frac{R}{16 \cdot 3} + \frac{2}{3}R. \Rightarrow H_2 = \frac{33}{48}R.$$

Критерии оценивания задачи 5.

	Элементы решения	Баллы (макс. 15 баллов)
1	Используется условие отрыва $N=0$	+1 балл
2	Записаны все необходимые уравнения или приведены верные рассуждения, приводящие к правильному ответу, при описании столкновения шариков <hr/> По +1 баллу за каждое верное уравнение (максимум 2 балла) +2 балла за верное решение системы +1 балл за верное уравнение отрыва первого шарика +1 балл за верную формулу для скорости u_2 второго шарика после столкновения	Максимум 6 баллов
3	Записаны все необходимые уравнения для описания отрыва второго шарика, приводящие к верному ответу <hr/> По +1 баллу за каждое верное уравнение (максимум 3 балла) +3 балла за верные и полные алгебраические преобразования Если в преобразованиях пропущены важные логические шаги или преобразования недостаточные, то можно добавить только 1 балл При ошибке в преобразованиях или их отсутствии баллы не добавляются	Максимум 6 баллов
4	Получен верный ответ на первый вопрос (чему равна скорость V налетающего шарика)	+1 балл
5	Получен верный ответ на второй вопрос (на какой высоте оторвется второй шарик)	+1 балл